



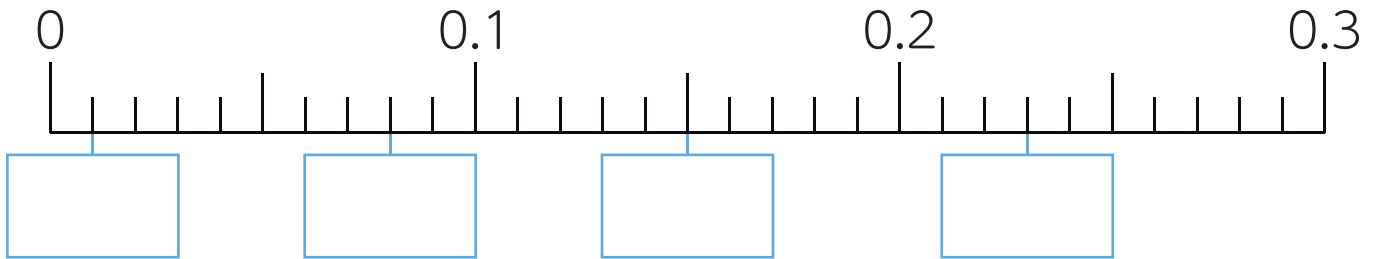
4 4年算数

小数

式と計算

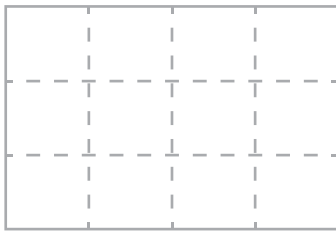
面積

1 に当てはまる数を書きましょう。

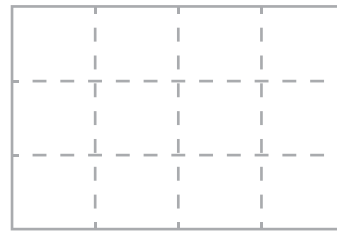


2 計算しましょう。

① $3.12 + 5.46 =$



② $8 - 2.54 =$



3 計算しましょう。

① $15 + 2 \times 40 =$

② $30 \div 3 - 7 =$

③ $(22 - 2) \times 5 =$

4 面積が 12cm^2 の図形を全てみつけてア～オで答えましょう。

