




# 2 4年算数


1 けたでわるわり算 角

1 計算しましょう。

①  $459 \div 3 =$



②  $372 \div 6 =$

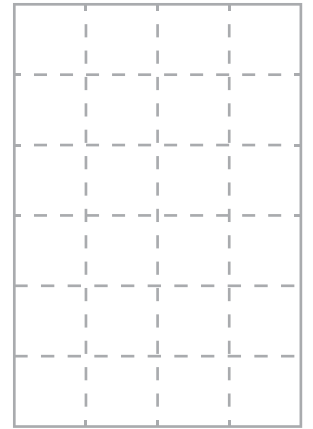


2 192 このみかんがあります。

8 こずつ箱に入れるには、何箱必要ですか。

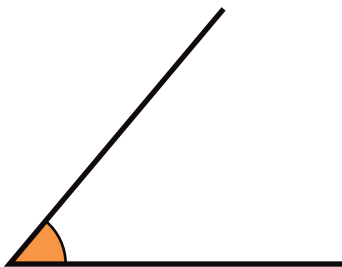
式 ( )

答え ( )



3 次の角の大きさを、分度器を使ってはかりましょう。

① ( )



② ( )

