



7

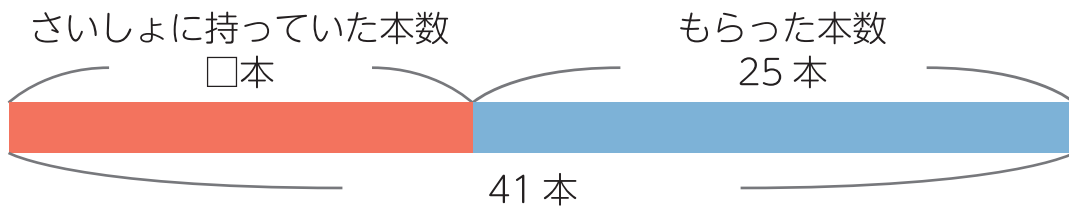
3年算数

□を使った式

そろばん

1 マメツプはえん筆を何本か持っています。

25本もらったので、全部で41本になりました。



① さいしょに持っていたえん筆の本数を□本として、たし算の式に表しましょう。

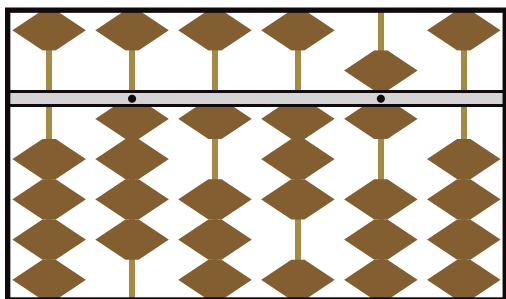
式 ( )

② さいしょに持っていたえん筆は何本ですか。

式 ( ) 答え ( )

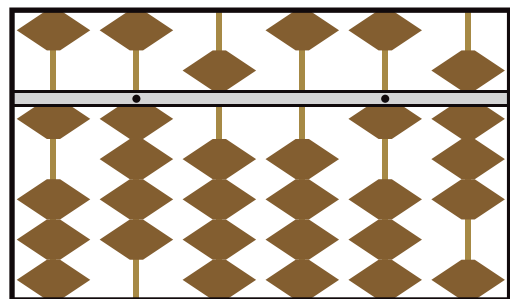
2 次のそろばんが表す数を書きましょう。

① ( )



▲  
1の位

② ( )



▲  
1の位