

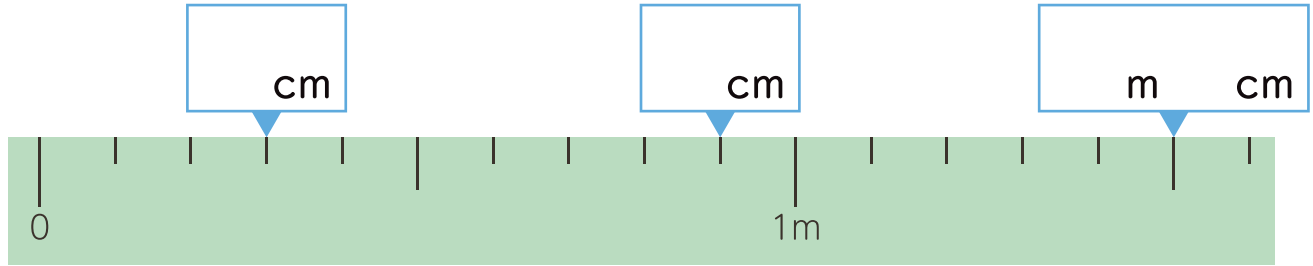


# 5 2年算数

たし算とひき算 分数

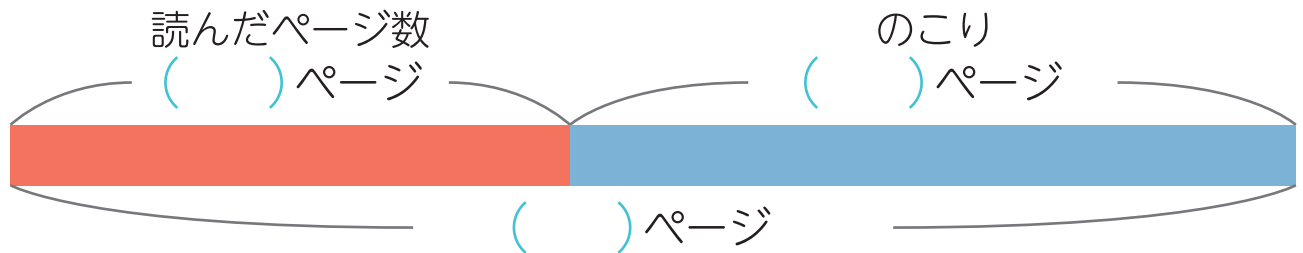
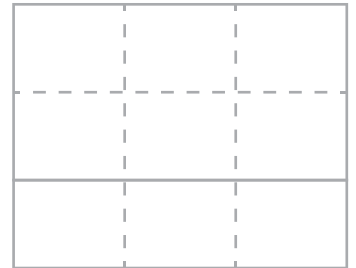
時こくと時間

1 □ に当てはまる数を書きましょう。



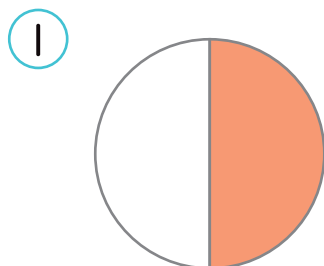
2 文しょうをよく読んでmondaiに答えましょう。

① 本を 37 ページ読むと、のこりが 48 ページになりました。  
ぜんぶで何ページの本ですか。

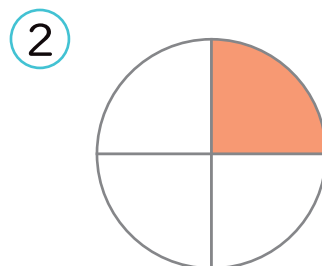


しき ( ) 答え ( ページ )

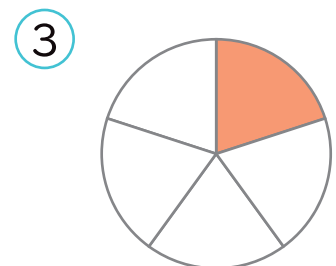
3 もとの大きさの何分の一ですか。



( )



( )



( )