



2年算数

ひょうとグラフ

2けたのたし算

2けたのひき算

1 昼休みのあそび方についてアンケートをとりました。

| | | | | |
|-----|--------|------|------|-------|
| | | | | ● |
| | | | | ● |
| | ● | | | ● |
| | ● | | ● | ● |
| ● | ● | | ● | ● |
| ● | ● | ● | ● | ● |
| 大なわ | ドッジボール | てつぼう | サッカー | おにごっこ |

① グラフを見て、ひょうに数字を書き入れましょう。

| あそび | 大なわ | ドッジボール | てつぼう | サッカー | おにごっこ |
|-----|-----|--------|------|------|-------|
| 数 | | | | | |

② 大なわをえらんだのは何人ですか。

()

③ 1番多くえらばれたあそびはどれですか。

()

2 計算しましょう。

① $35 + 57 =$

| | | |
|---|---|---|
| | 3 | 5 |
| + | 5 | 7 |
| | | |

② $64 - 19 =$

| | | |
|---|---|---|
| | 6 | 4 |
| - | 1 | 9 |
| | | |

3 96円もって買いものに行きます。

48円のおめを買うと、何円のこりですか。

しき () 答え (円)

| | |
|--|--|
| | |
| | |
| | |



2 2年算数




1000までの数

たし算のひっ算

ひき算のひっ算

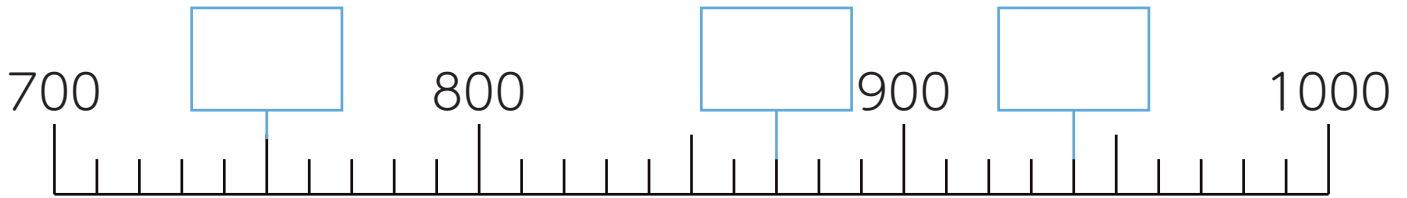
長さ

1 ぜんぶでいくらですか。

①     (円)

②        (円)

2 に当てはまる数を書きましょう。



3 計算しましょう。

① $72 + 48 =$

| | | |
|---|---|---|
| | 7 | 2 |
| + | 4 | 8 |
| | | |

② $131 - 33 =$

| | | | |
|---|---|---|---|
| | 1 | 3 | 1 |
| - | | 3 | 3 |
| | | | |

4 じょうぎをつかって直線を引きましょう。

① 3cm



② 5cm7mm





3 2年算数

水のかさ

三角形と四角形

かけ算

1 に当てはまる数を書きましょう。

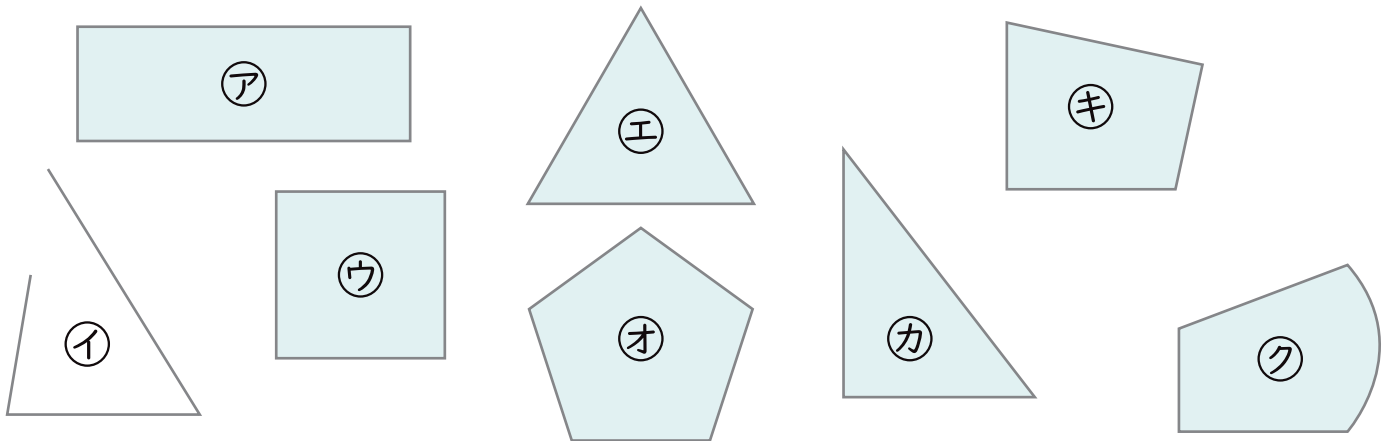
① 1Lは dLです。

② 50dLは Lです。

③ 1dLは mLです。

④ 3Lは mLです。

2 三角形と四角形をすべてみつけて①~⑦で答えましょう。



三角形 ()

四角形 ()

3 計算しましょう。

① $3 \times 8 =$

② $9 \times 5 =$

③ $6 \times 6 =$

④ $7 \times 4 =$

4 4cmのリボンが6本あります。ぜんぶで何cmになりますか。

しき () 答え (cm)



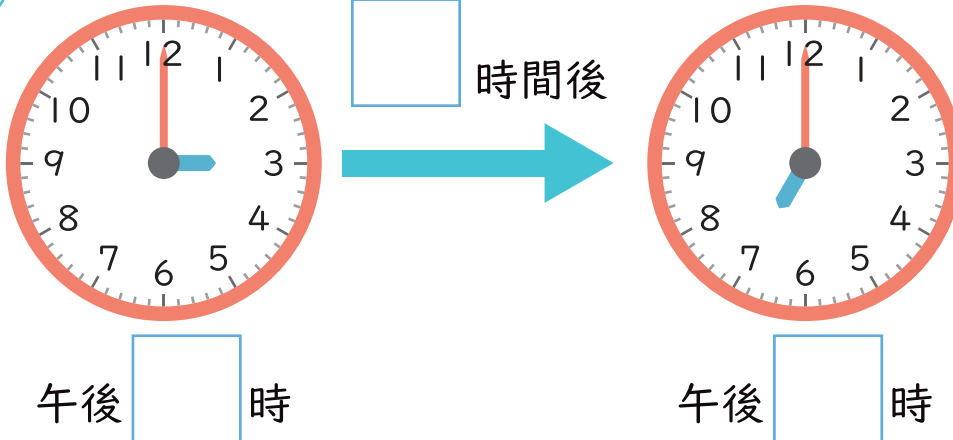
4 2年算数

時こくと時間 長さ

10000までの数

1 に当てはまる数を書きましょう。

①



② 1時間は 分です。

③ 1日は 時間です。

2 に当てはまる数を書きましょう。

① 5714は1000を こ、100を こ、
10を こ、1を こあわせた数です。

② 1000を3こ、100を9こ、
1を6こあわせた数は です。

③ 8002は1000を こ、1を こあわせた数です。

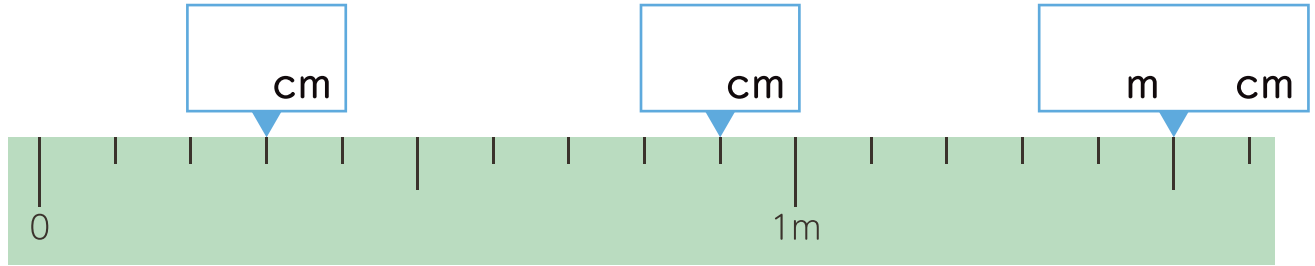


5 2年算数

たし算とひき算 分数

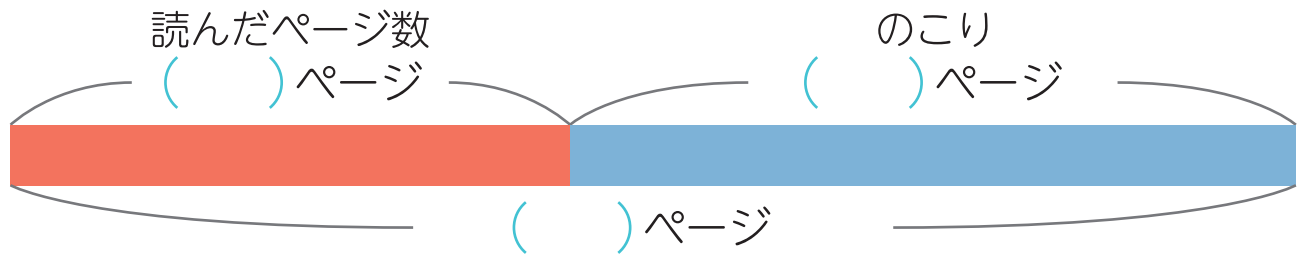
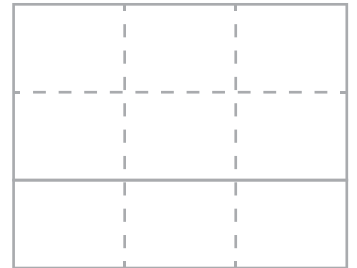
時こくと時間

1 □ に当てはまる数を書きましょう。



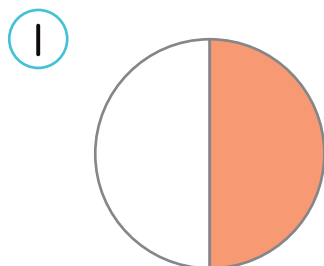
2 文しょうをよく読んでmondaiに答えましょう。

① 本を 37 ページ読むと、のこりが 48 ページになりました。
ぜんぶで何ページの本ですか。

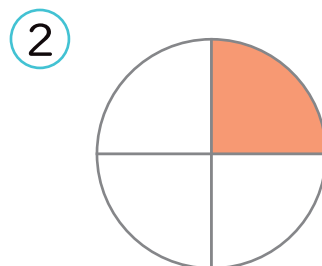


しき () 答え (ページ)

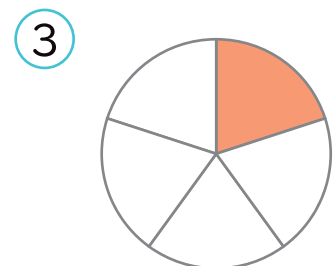
3 もとの大きさの何分の一ですか。



()



()



()