



3

1年さんすう

なんじなんじはん

たしざん

いろいろなかたち

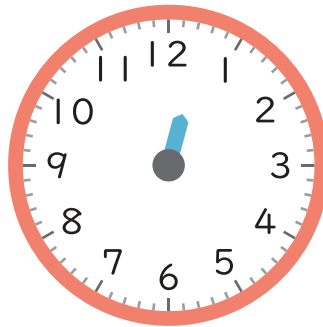
ひきざん

1 ながいはりをかきましょう。

① 5じ




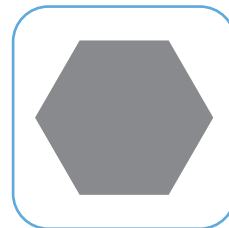



② 12じはん



③ 8じ15ふん



2 ^{うえ} ^み 上から見ると、どんなかたちになっているかな？
^{ただ} 正しいものを せんで おすびましょう。



3 けいさんしましょう。

① $4 + 7 =$

② $13 - 8 =$

③ $12 - 6 + 3 =$

④ $5 + 9 - 6 =$