



1年さんすう

10までのかず

いくつといくつ


あわせていくつ

のこりはいくつ

ふえるといくつ

ちがいはいくつ

1 かずをかぞえましょう。



🍊 () 🍓 ()

2 ^{ただ}正しいくみあわせを ^{ただ}せんでおすびましょう。

6

3

10

7

1 と 2

4 と 3

5 と 1

2 と 8

3 けいさんしましょう。

① $6 + 2 =$

② $3 + 5 =$

③ $7 - 5 =$

④ $5 - 2 =$



2

1年さんすう

なんばんめ たしざん


10よりおおきいかず

1 こたえをまるでかこみましょう。

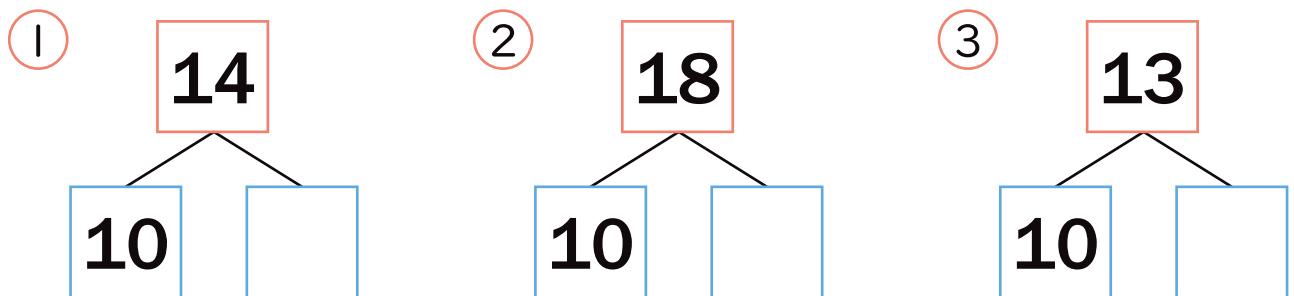
① まえから3ばん^め目



② うしろから4わ



2 10といくつにわけられますか。



3 ^{ぶん}文しょうをよくよんでもんだいにこたえましょう。

① かんらん^{しゃ}車のれつにならんでいます。
 まえから5ばん^め目です。うしろに7^{にん}人います。
 ぜんぶでなん^{にん}人ならんでいますか。

しき () こたえ (人)



3

1年さんすう

なんじなんじはん

たしざん

いろいろなかたち

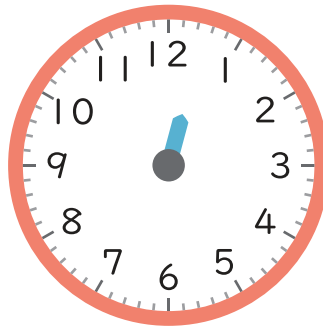
ひきざん

1 ながいはりをかきましょう。

① 5じ




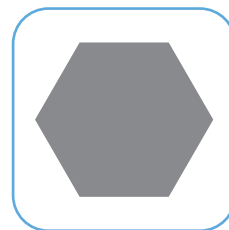


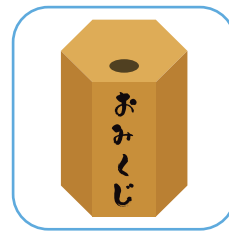

② 12じはん



③ 8じ15ふん



2 ^{うえ} ^み 上から見ると、どんなかたちになっているかな？
^{ただ} 正しいものを せんで おすびましょう。



3 けいさんしましょう。

① $4 + 7 =$

② $13 - 8 =$

③ $12 - 6 + 3 =$

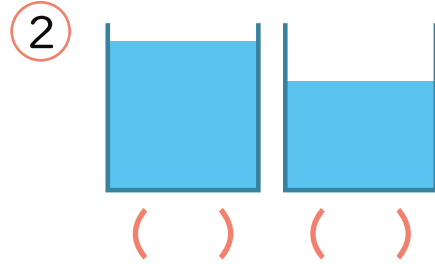
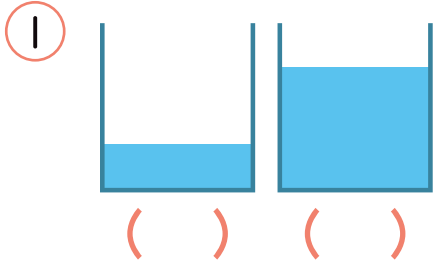
④ $5 + 9 - 6 =$



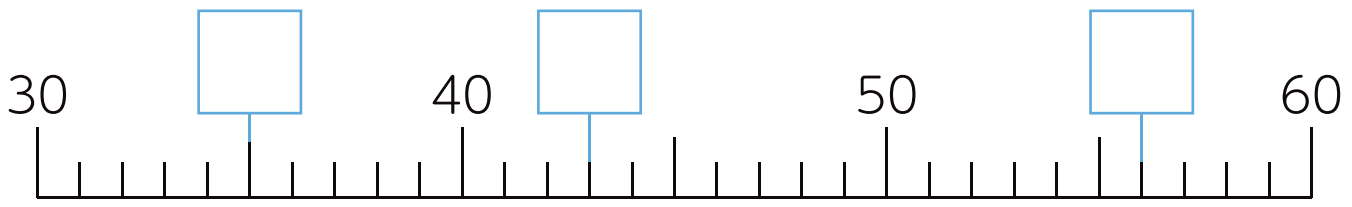
4 1年さんすう

かきくらべ 大きなかず
ずをつかってかんがえよう

1 ^{はい}入っている水が ^{みず}おおいほうにまるをつけましょう。

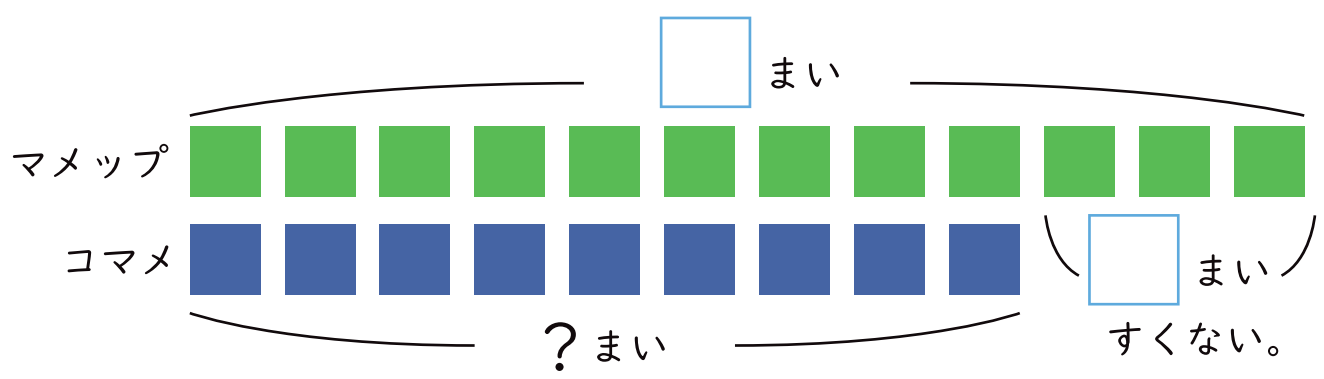


2 にあてはまるかずをかきましょう。



3 ^{ぶん}文しょうをよくよんで もんだいに こたえましょう。

- ① マメツプは おりがみを 12まいもっています。
 コマメのおりがみは マメツプより 3まいすくないです。
 コマメは おりがみを なんまいもっていますか。



しき () こたえ (まい)