

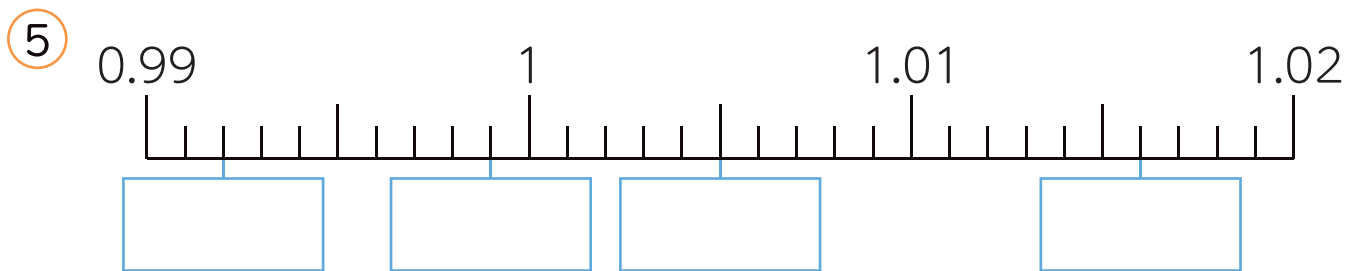
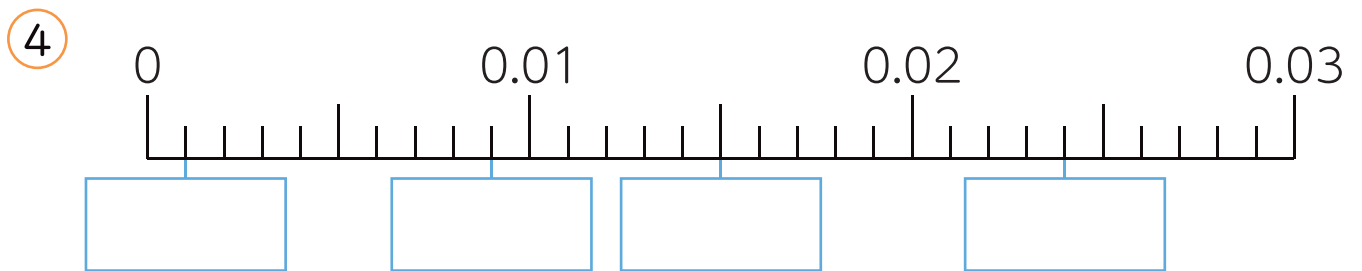
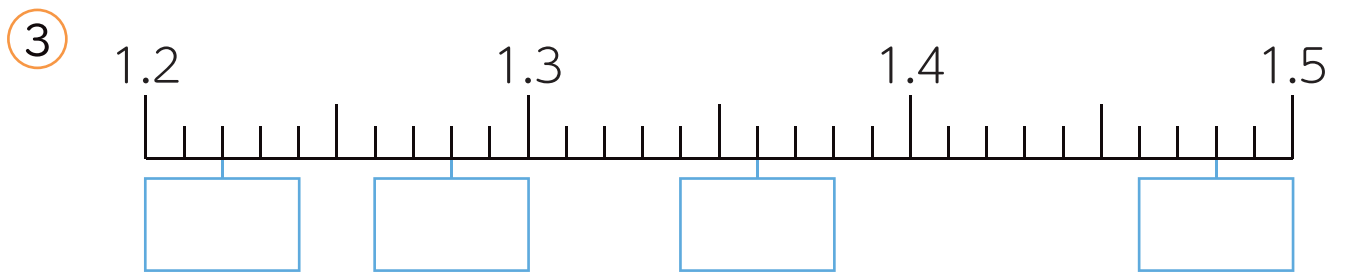
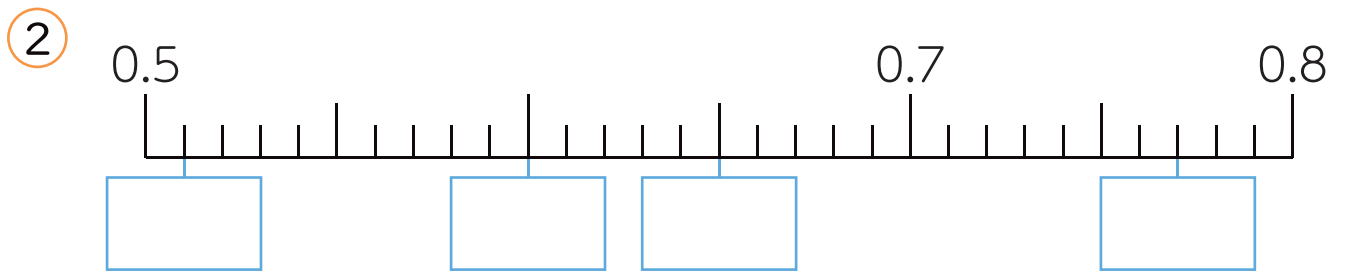
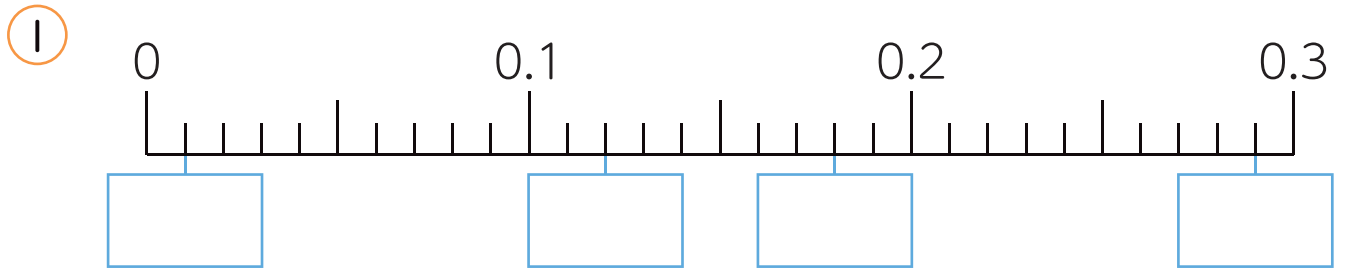


◆数直線

小数

名前

■ □ に当てはまる数を書きましょう。



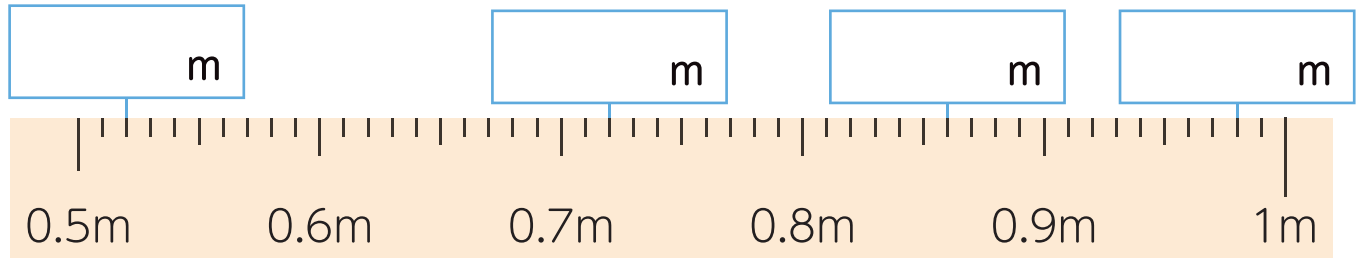
2

◆長さ
小数

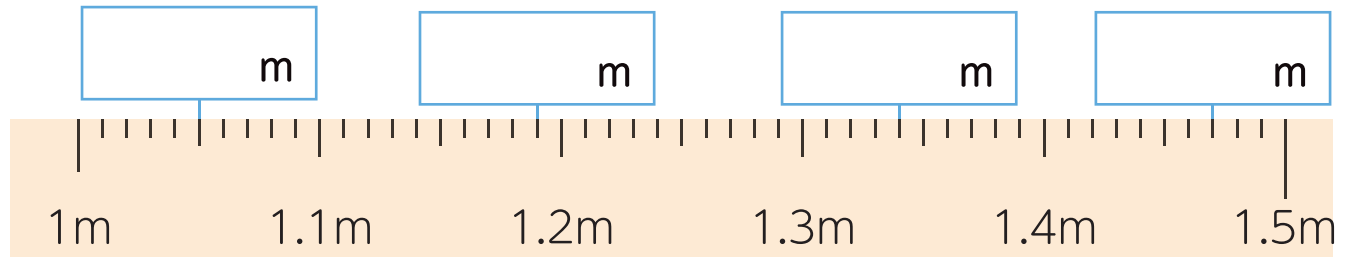
名前

1 それぞれ何 m ですか。□ に当てはまる数を書きましょう。

①



②



2 □ に当てはまる数を書きましょう。

- ① 1m56cm は □ m です。
- ② 3m25cm は □ m です。
- ③ 24m8cm は □ m です。
- ④ 1.82m は □ m □ cm です。
- ⑤ 5.09m は □ m □ cm です。
- ⑥ 12.34m は □ m □ cm です。

3

◆10倍,10分の1

小数

名前

1 次の数を10倍するといくつになりますか。

① 3.5 ()

② 0.12 ()

③ 14.9 ()

④ 0.03 ()

2 次の数を100倍するといくつになりますか。

① 0.29 ()

② 1.87 ()

③ 0.465 ()

④ 21.3 ()

3 次の数を10でわるといくつになりますか。

① 4.1 ()

② 0.62 ()

③ 8 ()

④ 37 ()

4 次の数を100でわるといくつになりますか。

① 6.7 ()

② 9.3 ()

③ 9 ()

④ 15 ()

⑤ 75.2 ()

⑥ 0.4 ()

4

◆かさ,長さ,重さ

小数

名前

■ に当てはまる数を書きましょう。

① 0.01L を10等分した1つ分は Lです。

② 1cm は m です。

③ 0.1m を10等分した1つ分は m です。

④ 1m は km です。

⑤ 1562m は km です。

⑥ 2038m は km です。

⑦ 1g は kg です。

⑧ 500g は kg です。

⑨ 1kg640g は kg です。

⑩ 3kg52g は kg です。