



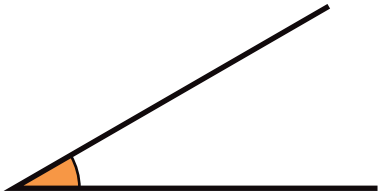
◆角の大きさ

角


名前

■ 次の角の大きさを、分度器を使ってはかりましょう。

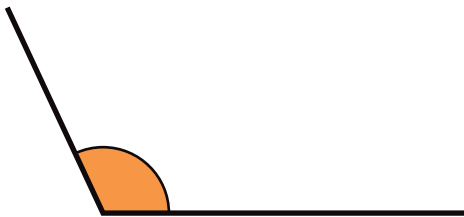
① ()



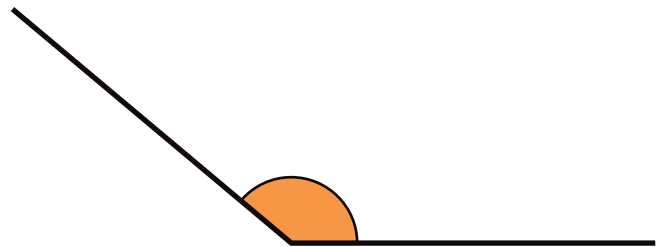
② ()



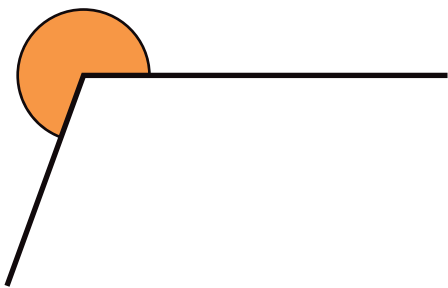
③ ()



④ ()



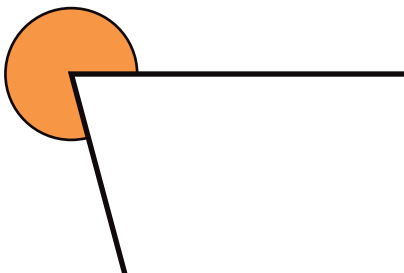
⑤ ()



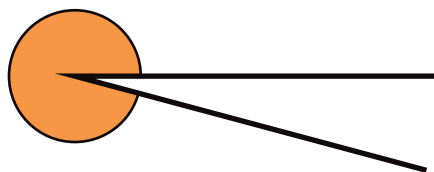
⑥ ()



⑦ ()



⑧ ()





◆角をかこう

角

名前

■ 分度器の中心を点アにあわせて、次の角をかきましょう。

① 20 度

② 45 度



③ 90 度

④ 165 度



⑤ 220 度

⑥ 305 度





◆角をかこう

角

名前

■ 分度器の中心を点アにあわせて、次の角をかきましょう。

① 35 度

② 105 度



③ 140 度

④ 175 度



⑤ 270 度

⑥ 330 度





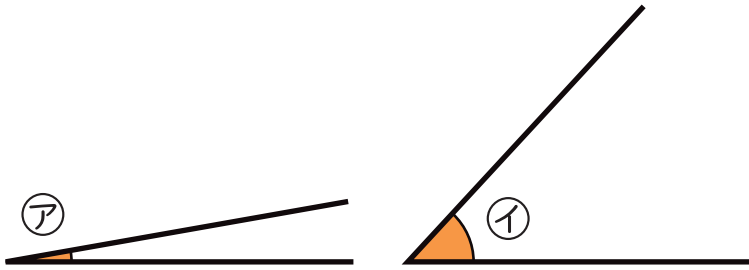
4

◆大きさをくらべ
角

名前

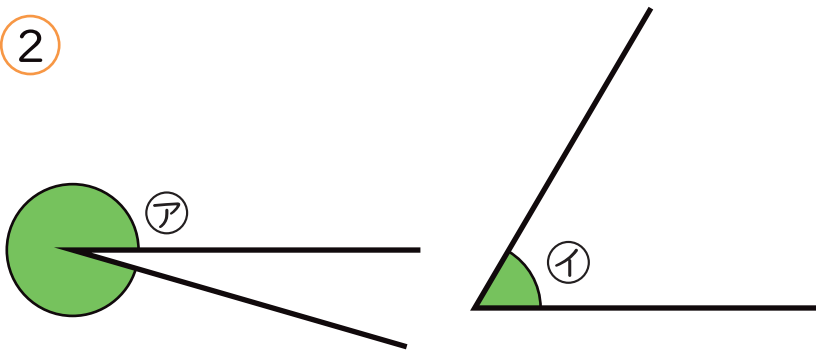
■角が大きい方を答えましょう。

①



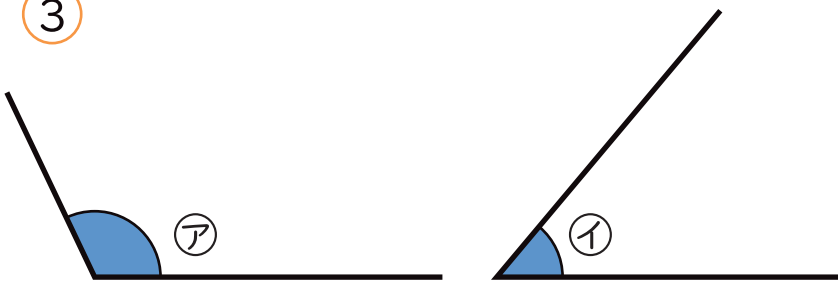
()

②



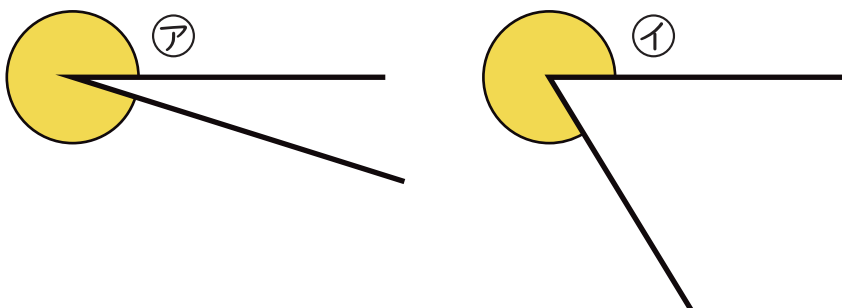
()

③



()

④



()



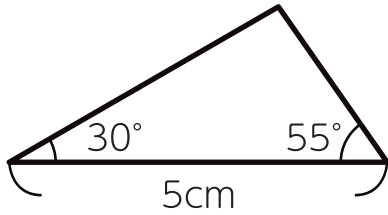
5

◆三角形をかこう
角

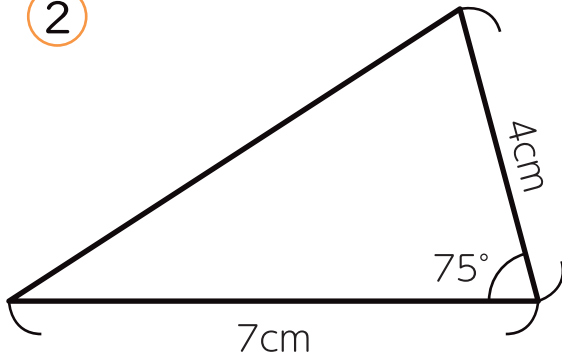
名前

■ 分度器を使って、次の三角形をかきましょう。


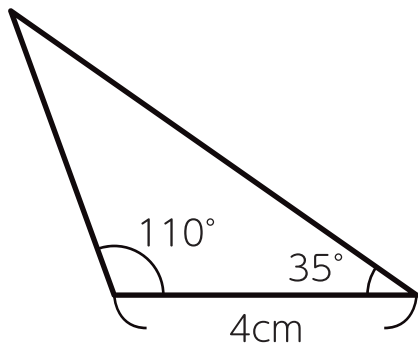
①



②



③



④

