




2

◆文しょうもんだい かけ算

名前

□ 文しょうをよく読んで、問題に答えましょう。

- ① 8こ入りのたこ焼きが、3ふねあります。
たこやきは、ぜんぶで何こありますか。




しき () 答え ()

- ② 1Lのジュースが入ったペットボトルが9本あります。
ジュースは、ぜんぶで何Lありますか。




しき () 答え ()

- ③ りんごの入ったはこが、7はこあります。
1はこに、りんごは2こずつ入っています。
りんごは、ぜんぶで何こありますか。



しき () 答え ()

- ④ えんぴつが4本ずつ入ったはこが、
6はこあります。
えんぴつは、ぜんぶで何本ありますか。



しき () 答え ()