



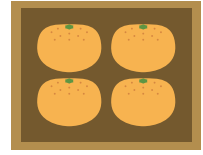
1

◆文しょうもんだい
かけ算

名前

□ 文しょうをよく読んで、問題に答えましょう。

- ① みかんの入ったはこが、5はこあります。
1はこに、みかんは4こずつ入っています。
みかんは、ぜんぶで何こありますか。



しき () 答え ()

- ② 5Lのお茶が入ったペットボトルが3本あります。
お茶は、ぜんぶで何Lありますか。



しき () 答え ()

- ③ クッキー入りのふくろが、7ふくろあります。
1ふくろに、3まいずつクッキーが入っています。
クッキーは、ぜんぶで何まいありますか。



しき () 答え ()

- ④ ドーナツが5こ入ったはこが、
5はこあります。
ドーナツは、ぜんぶで何こありますか。



しき () 答え ()




2

◆文しょうもんだい かけ算

名前

□ 文しょうをよく読んで、問題に答えましょう。

- ① 8こ入りのたこ焼きが、3ふねあります。
たこやきは、ぜんぶで何こありますか。




しき () 答え ()

- ② 1Lのジュースが入ったペットボトルが9本あります。
ジュースは、ぜんぶで何Lありますか。




しき () 答え ()

- ③ りんごの入ったはこが、7はこあります。
1はこに、りんごは2こずつ入っています。
りんごは、ぜんぶで何こありますか。



しき () 答え ()

- ④ えんぴつが4本ずつ入ったはこが、
6はこあります。
えんぴつは、ぜんぶで何本ありますか。



しき () 答え ()



3

◆文しょうもんだい かけ算

名前

文しょうをよく読んで、問題に答えましょう。

- ① 2人のりの車が4台あります。
ぜんぶで何人のれますか。



しき () 答え ()

- ② 5円玉が8まいあります。ぜんぶで何円ですか。




しき () 答え ()

- ③ 3cmのテープが、6本あります。
ぜんぶで何cmになりますか。



しき () 答え ()

- ④ キャンディーの入ったふくろが8ふくろあります。
1ふくろに、7こずつ入っています。
キャンディーは、ぜんぶで何こありますか。



しき () 答え ()