

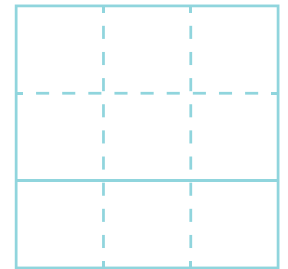
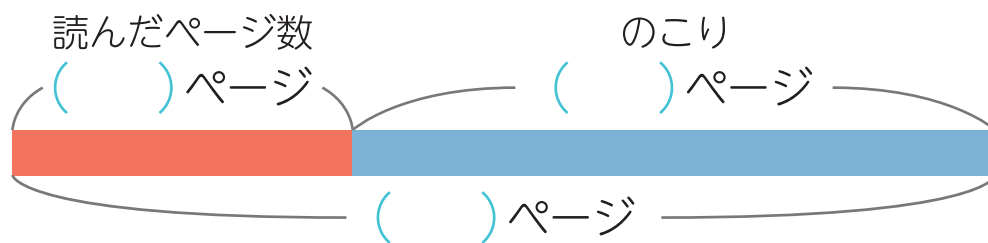


◆文しょうもんだい
足し算と引き算

名前

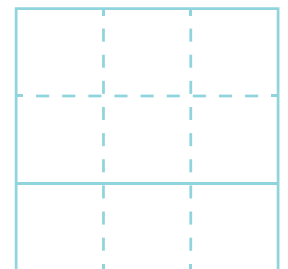
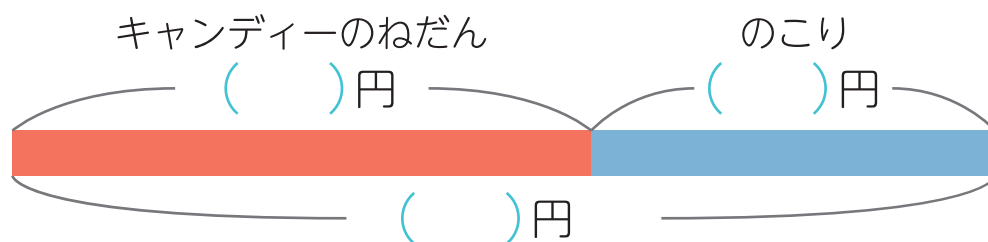
- 文しょうをよく読んで、テープ図をかんせいさせましょう。
図をつかって、しきを作り、答えをもとめましょう。

- ① 本を 27 ページ読むと、のこりが 64 ページになりました。
ぜんぶで何ページの本ですか。



しき () 答え ()

- ② 75 円もっておかしを買いに行きます。
いくらかのキャンディーを 1 つ買うと、29 円のはこりしました。
キャンディーは何円でしたか。



しき () 答え ()