

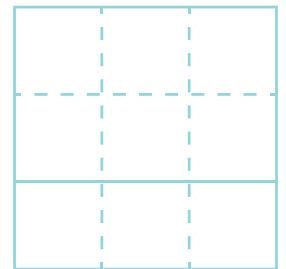
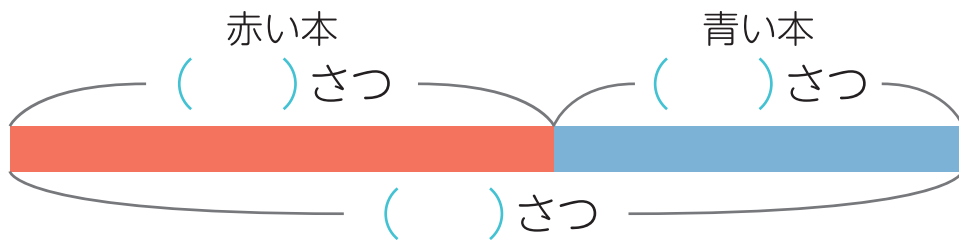


◆文しょうもんだい  
足し算と引き算

名前

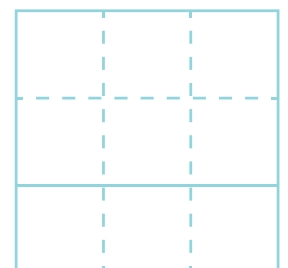
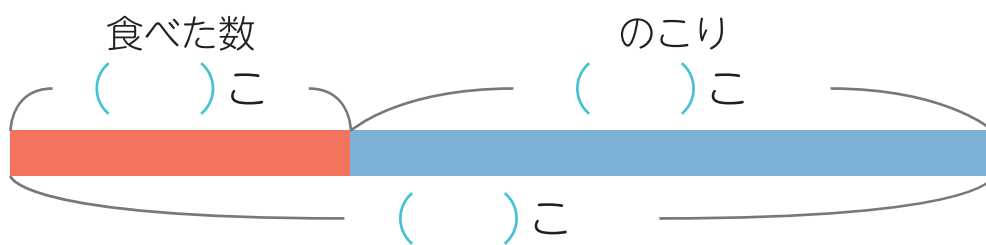
□ 文しょうをよく読んで、テープ図をかんせいさせましょう。  
図をつかって、しきを作り、答えをもとめましょう。

- ① 赤い本が24さつあります。青い本が何さつかあります。  
本は、ぜんぶで42さつあります。  
青い本は何さつありますか。



しき ( ) 答え ( )

- ② チョコを12こ食べると、のこりは55こになりました。  
はじめは、何こありましたか。



しき ( ) 答え ( )