

1

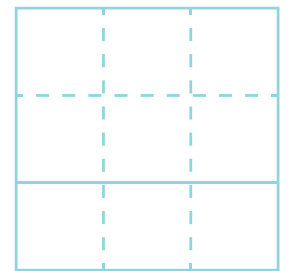
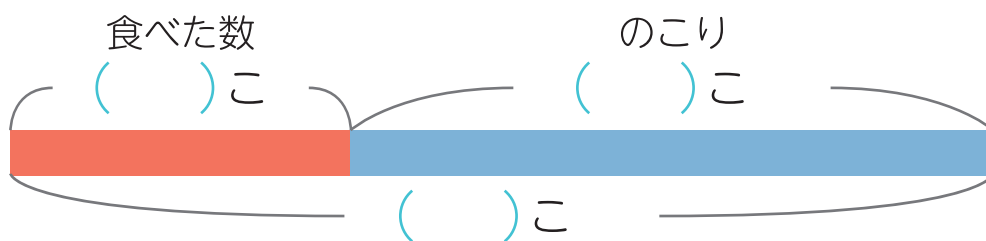
◆文しょうもんだい

足し算と引き算

名前

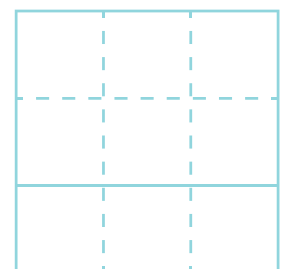
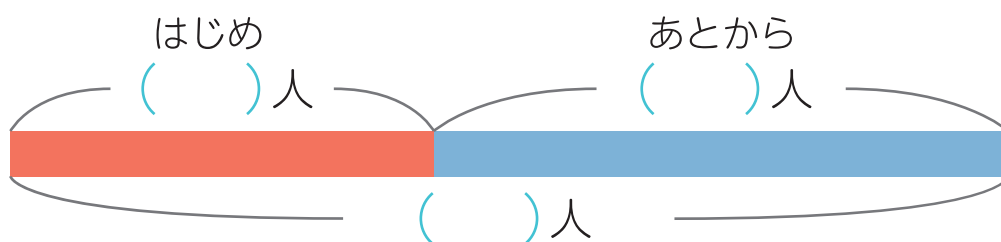
- 文しょうをよく読んで、テープ図をかんせいさせましょう。
図をつかって、しきを作り、答えをもとめましょう。

- ① いちごが26こあります。いくつか食べると、
17こになりました。いくつ食べましたか。



しき () 答え ()

- ② バスに何人かのっています。19人のってきたので、
33人になりました。はじめは何人のっていましたか。



しき () 答え ()

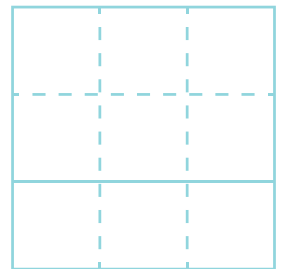
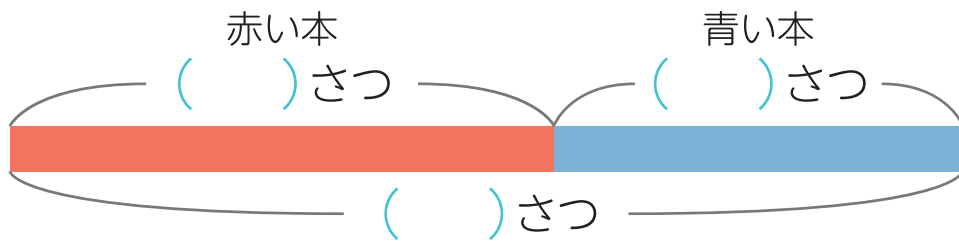


◆文しょうもんだい
足し算と引き算

名前

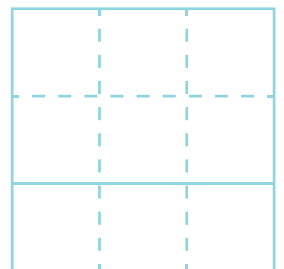
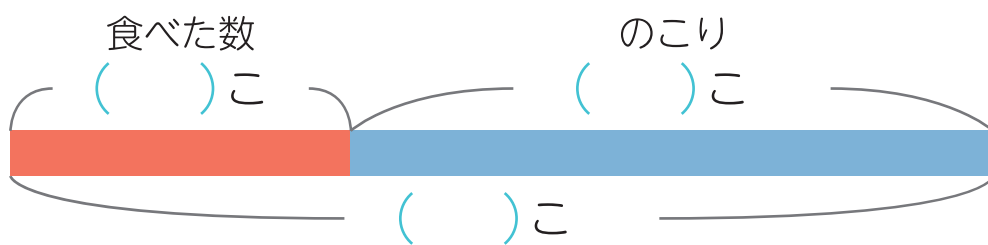
□ 文しょうをよく読んで、テープ図をかんせいさせましょう。
図をつかって、しきを作り、答えをもとめましょう。

- ① 赤い本が24さつあります。青い本が何さつかあります。
本は、ぜんぶで42さつあります。
青い本は何さつありますか。



しき () 答え ()

- ② チョコを12こ食べると、のこりは55こになりました。
はじめは、何こありましたか。



しき () 答え ()



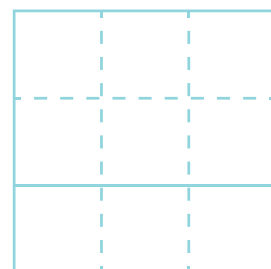
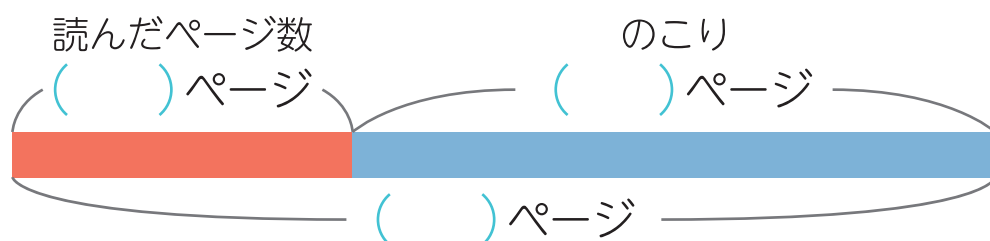
◆文しょうもんだい

足し算と引き算

名前

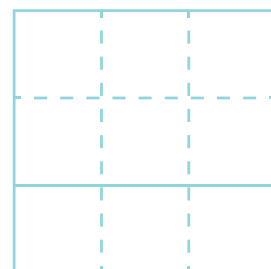
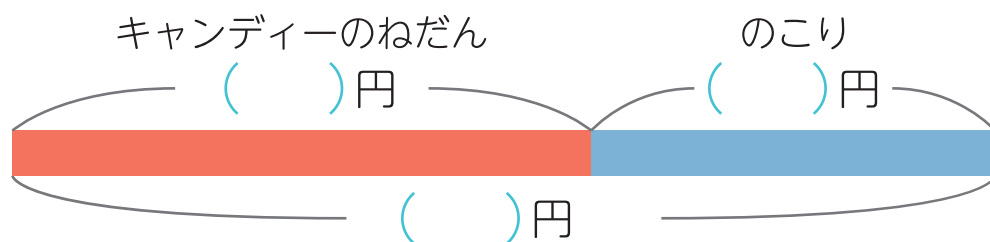
□ 文しょうをよく読んで、テープ図をかんせいさせましょう。
図をつかって、しきを作り、答えをもとめましょう。

① 本を 27 ページ読むと、のこりが 64 ページになりました。
ぜんぶで何ページの本ですか。



しき () 答え ()

② 75 円もっておかしを買いに行きます。
いくらかのキャンディーを 1 つ買うと、29 円のがりました。
キャンディーは何円でしたか。



しき () 答え ()