



◆文章問題


# わり算

名前

文章をよく読んで、問題に答えましょう。

① チョコが24こあります。

6こずつ配ると、何人に配ることができますか。



式 ( ) 答え ( )

② いちごが56こあります。



8人に同じ数ずつ分けると、1人分は何こになりますか。

式 ( ) 答え ( )

③ 30ページの本があります。1日5ページずつ読むと、何日で読み終わることができますか。



式 ( ) 答え ( )

④ 36cmのテープを同じ長さに切ります。4cmずつ切ると、何本できますか。



式 ( ) 答え ( )




◆文章問題  
わり算

名前

□ 文章をよく読んで、問題に答えましょう。

① 花が18本あります。


3本ずつたばにすると、花たばは何たばできますか。



式 ( ) 答え ( )

② みかんが32こあります。

1箱に8こずつ入れていくと、  
全部で何箱できますか。



式 ( ) 答え ( )

③ おり紙が63まいあります。

7人に同じまい数ずつ配ると、1人分は何まいになりますか。

式 ( ) 答え ( )

④ 16dLのジュースがあります。

4dLずつ分けると、何人に配ることが出来ますか。

式 ( ) 答え ( )




◆文章問題  
わり算

名前


□ 文章をよく読んで、問題に答えましょう。

- ① キャンディーが21こあります。  
3こずつ配ると、何人に分けることができますか。



式 ( ) 答え ( )

- ② えんぴつが54本あります。  
6本ずつ箱に入れると、全部で何箱できますか。



式 ( ) 答え ( )

- ③ 花が40本あります。  
花たばを5たば作るには、何本ずつたばねればいいですか。

式 ( ) 答え ( )

- ④ ノートが16ページのこっています。  
1日8ページ使うと、何日で使い終わりますか。

式 ( ) 答え ( )