



1

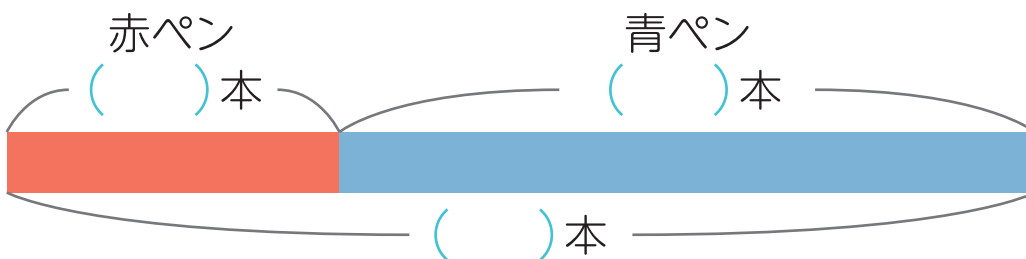
◆図をつかって考えよう

## 足し算と引き算

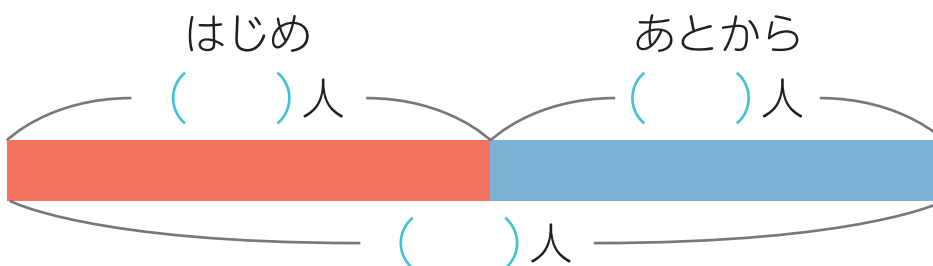
名前

- 文しょうを読んで、テープ図をかんせいさせよう。  
( ) に、あてはまる数か、わからない数の場合は□を書こう。

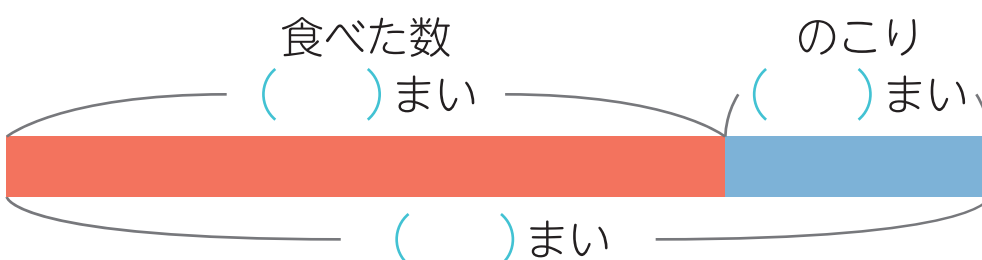
- ① 赤ペンが 11 本、青ペンが 23 本あります。  
ぜんぶで何本ありますか。



- ② 公園に何人かいます。あとから 15 人きたので、  
ぜんぶで 31 人になりました。はじめは何人いましたか。



- ③ クッキーが 26 まいあります。何まいか食べたので  
のこりは 7 まいになりました。何まい食べましたか。





# 2

◆図をつかって考えよう

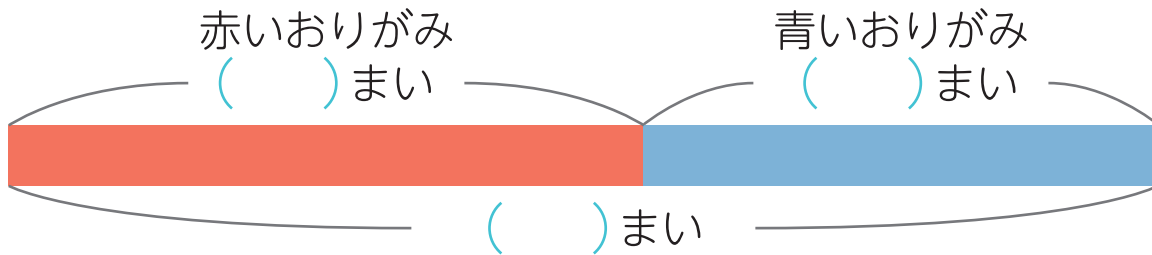
## 足し算と引き算

名前

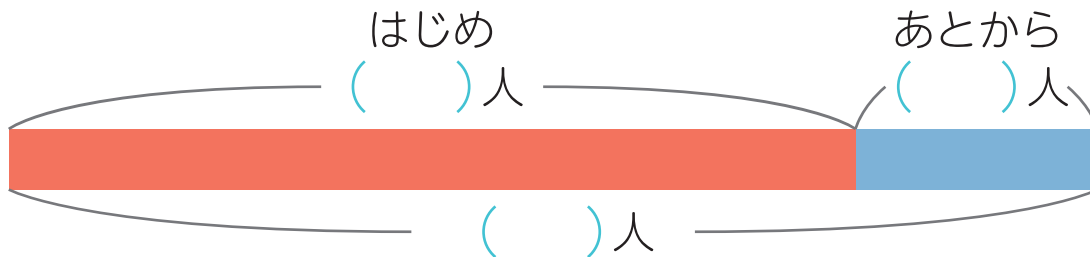
□ 文しょうを読んで、テープ図をかんせいさせよう。

( ) に、あてはまる数か、わからない数の場合は□を書こう。

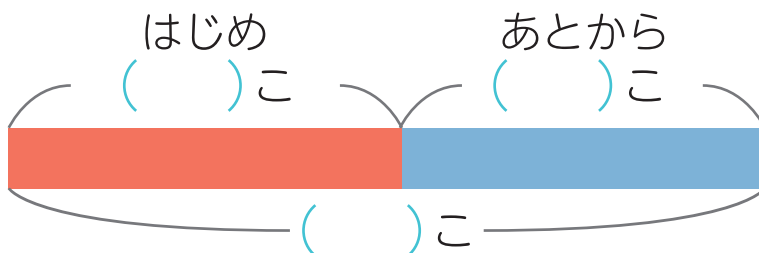
- ① 赤いおりがみが42まいと、青いおりがみは何まいかあります。おりがみはぜんぶで76まいです。青いおりがみは何まいありますか。



- ② 電車で28人乗っています。あとから何人か乗ってきたので、みんなで36人になりました。あとから乗ってきたのは何人ですか。



- ③ りんごが13こあります。12こもらうと、ぜんぶで何こになりますか。





3

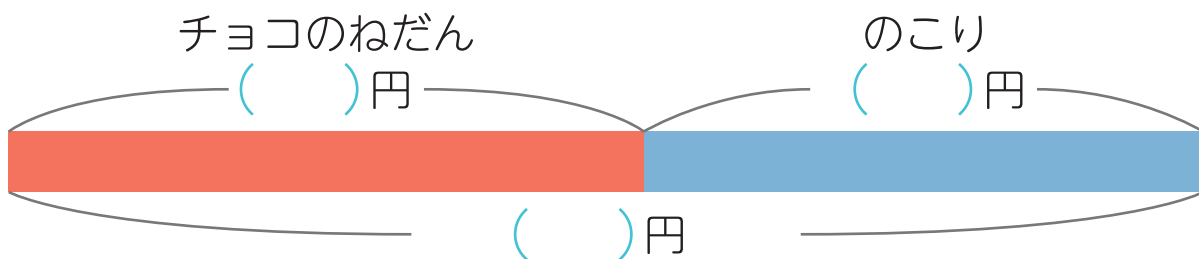
◆図をつかって考えよう

## 足し算と引き算

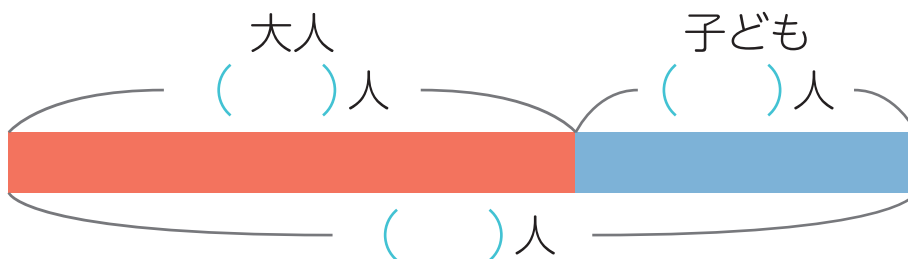
名前

- 文しょうを読んで、テープ図をかんせいさせよう。  
( ) に、あてはまる数か、わからない数の場合は□を書こう。

- ① いくらかもっておかしを買いに行きます。  
40 円のチョコを買うと、37 円のこりしました。  
はじめはいくらもっていましたか。



- ② バスに大人が 15 人と、子どもが何人かのっています。  
ぜんぶで 24 人のっているとき、子どもは何人ですか。



- ③ 本を 52 ページ読むと、のこりが 23 ページになりました。  
ぜんぶで何ページの本ですか。

