


2

◆kg(キログラム) ◆小数
重さ



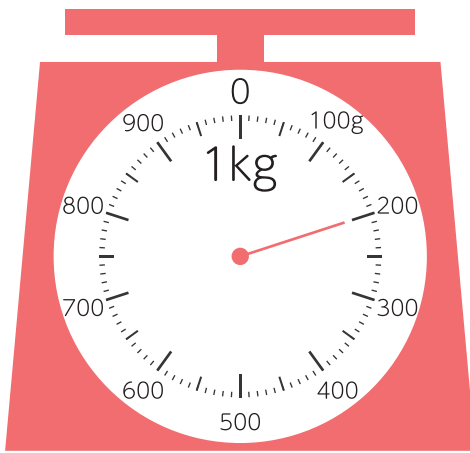
□ はりのさしている重さは何 kg ですか。

$$100 \text{ g} = 0.1 \text{ kg}$$



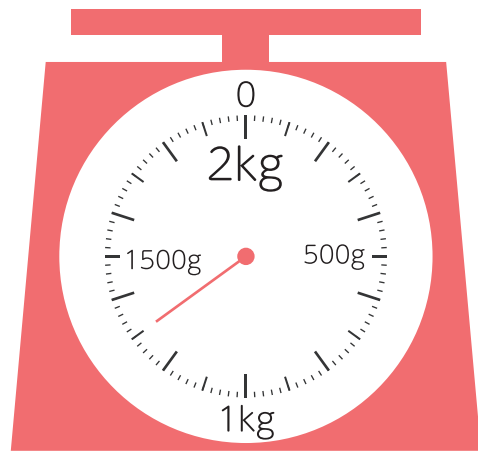
何 kg まで
はかれる
はかりかな？

①



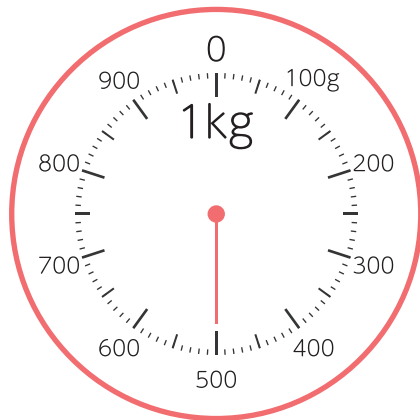
(kg)

②



()

③



()

④



()