



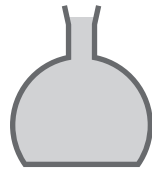
かさくらべ

こたえ


2つの入れものに水がどれだけ入るかしらべます。

どちらがどれだけ多いか分かるものをすべてえらびましょう。

① ()



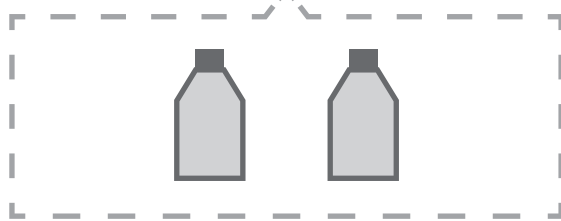
同じりょうずついれないと
くらべられないね。



② (○)



左のボトルは
右のボトル1つ分多いね。



③ (○)



右が8dL分多いよ。

