



# かさくらべ

こたえ


2つの入れものに水がどれだけ入るかしらべます。

どちらがどれだけ多いか分かるものをすべてえらびましょう。

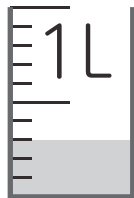
① (○)



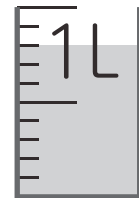
左の方が1ぱい分多いね。



② (○)




右が5dL分多いよ。



③ ( )



すりきりではからないと  
くらべられないね。



④ ( )



どれだけ多いかは  
わからないね。






# かさくらべ

こたえ


2つの入れものに水がどれだけ入るかしらべます。

どちらがどれだけ多いか分かるものをすべてえらびましょう。

① ( )



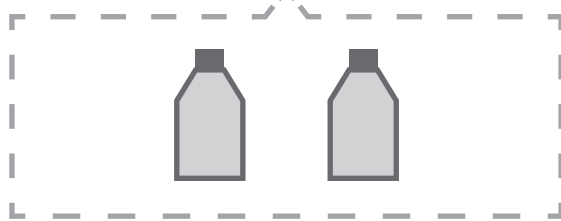
同じりょうずついれないと  
くらべられないね。



② (○)



左のボトルは  
右のボトル1つ分多いね。



③ (○)



右が8dL分多いよ。

