

◆時こくと時間

何時間かな？

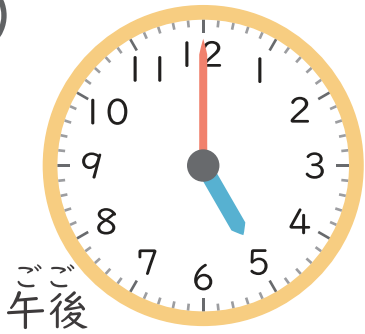
名前

Blank space for writing a name.

とけいよ 時計を読みましょう。

左の時こくから右の時こくまでのじかんを答えましょう。

①



時 分

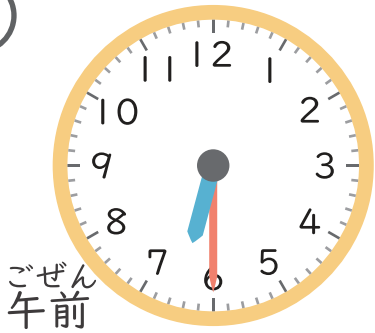
から

時 分

までの時間

時間

②



時 分

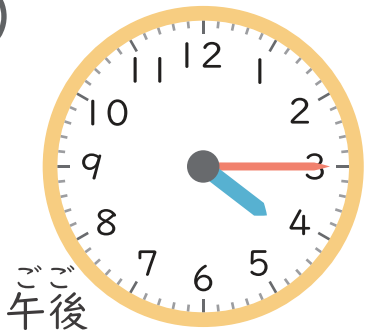
から

時 分

までの時間

時間

③



時 分

から

時 分

までの時間

時間

2

◆時こくと時間

何時間かな？

名前

とけい 時計を よ 読みましょう。

左の時 じ こくから右の時 じかん こくまでの時間を答えましょう。

①



時 分

から

時 分

までの時間

時間

②



時 分

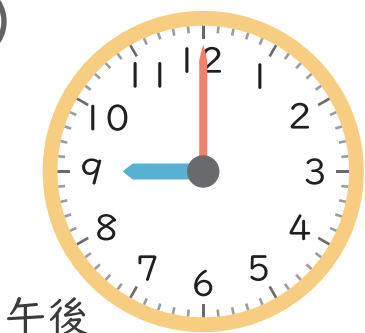
から

時 分

までの時間

時間

③



時 分

から

時 分

までの時間

時間