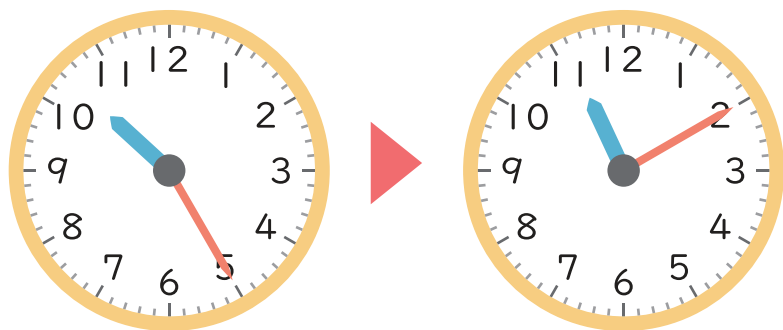


とけいよ 時計を読みましょう。

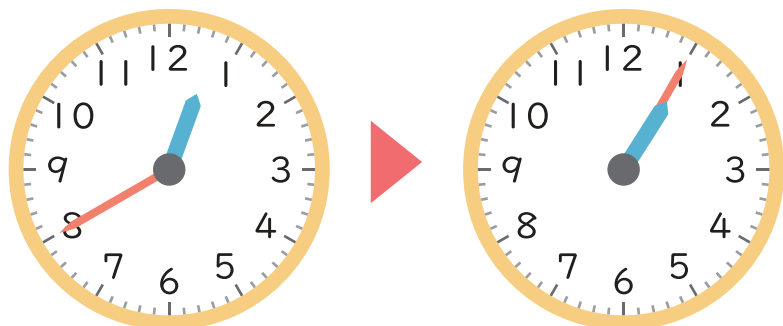
左の時<sup>じ</sup>こくから右の時<sup>じかん</sup>こくまでの時間を答えましょう。

①



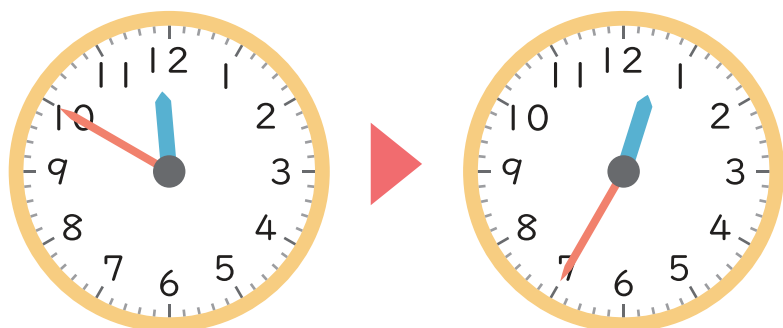
時 分 から 時 分 までの時間 分

②



時 分 から 時 分 までの時間 分

③



時 分 から 時 分 までの時間 分