

3

◆時こくと時間

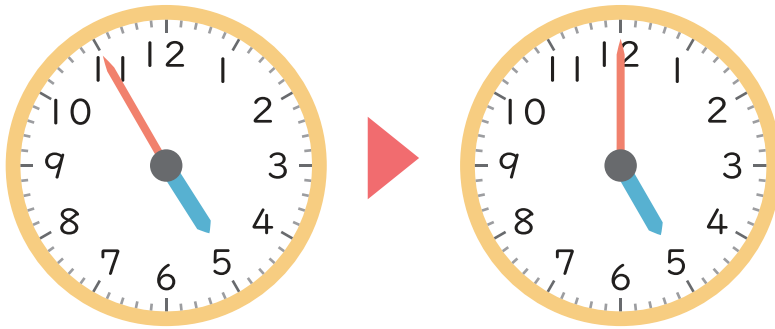
何分かな？

名前

時計を読みましょう。

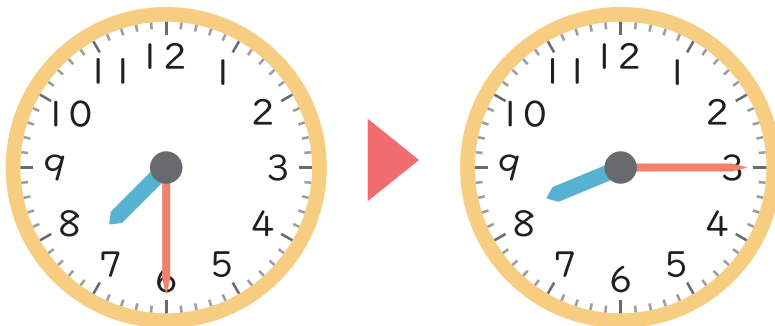
左の時こくから右の時こくまでの時間を答えましょう。

①



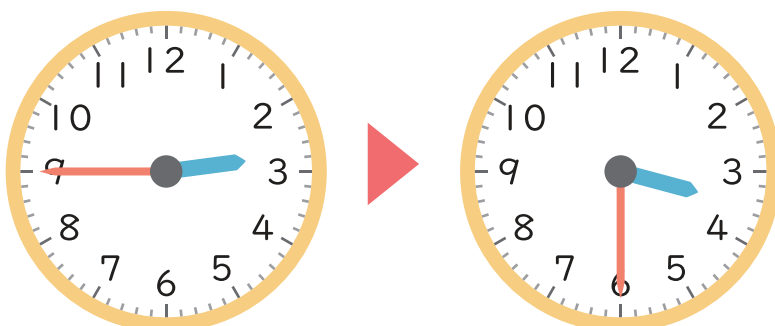
時 分 から 時 分 までの時間 分

②



時 分 から 時 分 までの時間 分

③



時 分 から 時 分 までの時間 分