

◆時こくと時間

何分かな？

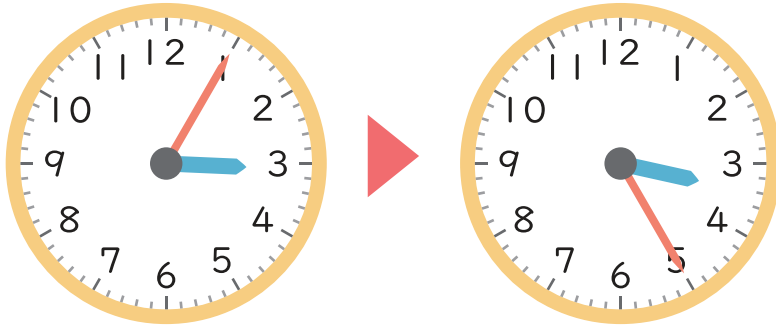
名前

Blank box for writing the name.

とけいよ 時計を読みましょう。

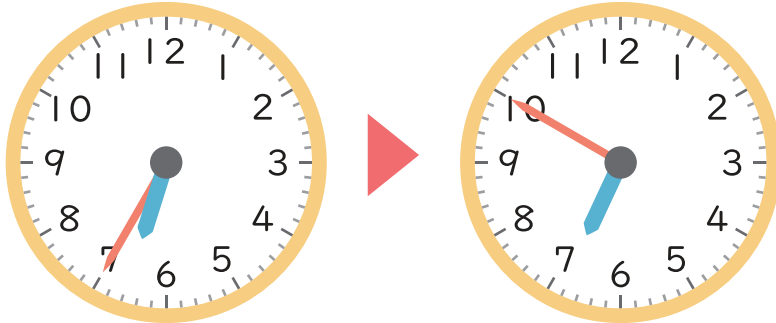
左の時こくから右の時こくまでの時間^{じかん}を答えましょう。

①



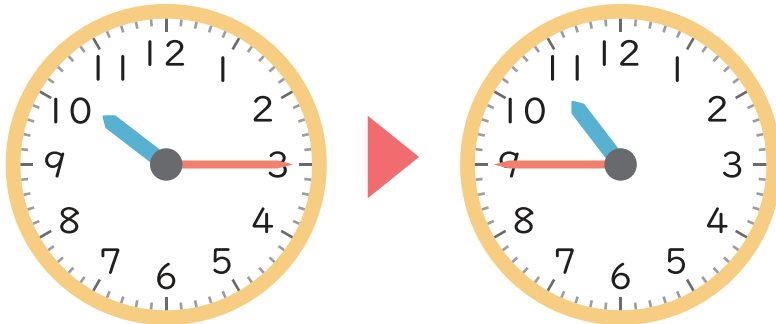
時 分 から 時 分 までの時間 分

②



時 分 から 時 分 までの時間 分

③



時 分 から 時 分 までの時間 分