

◆時こくと時間

何分かな？

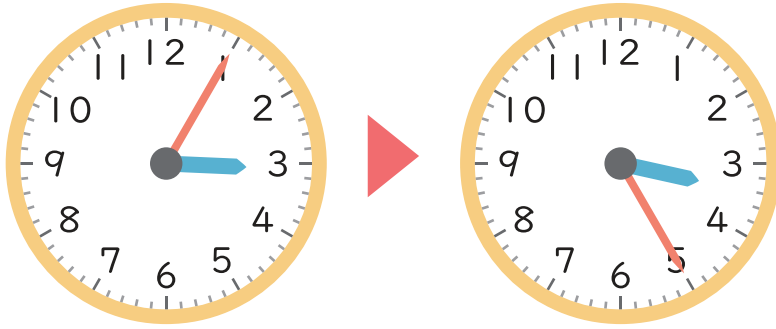
名前

Blank space for writing a name.

とけいよ 時計を読みましょう。

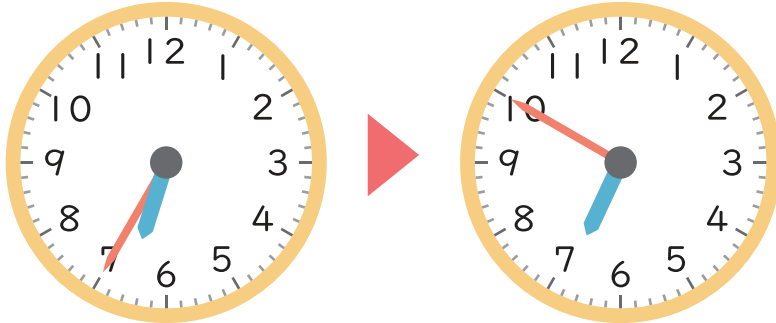
左の時こくから右の時こくまでの時間^{じかん}を答えましょう。

①



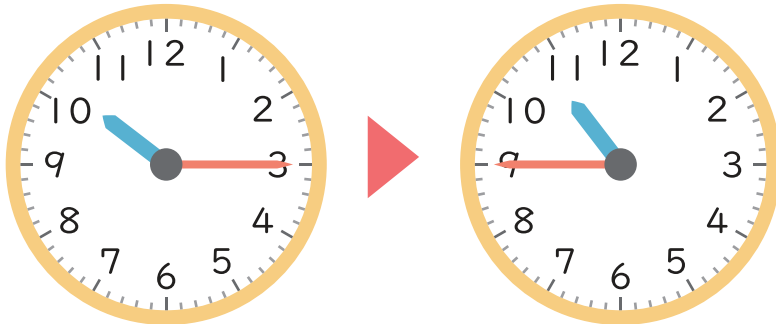
時 分 から 時 分 までの時間 分

②



時 分 から 時 分 までの時間 分

③

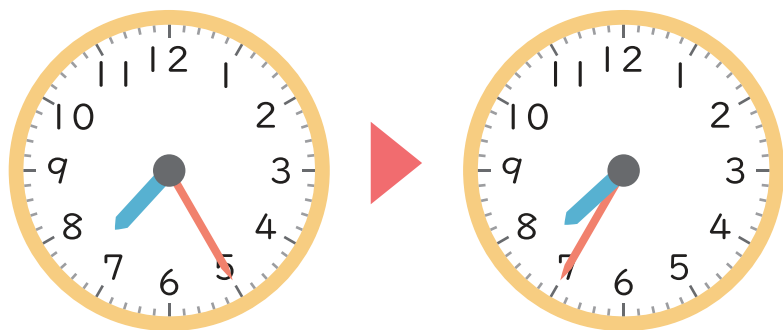


時 分 から 時 分 までの時間 分

とけいよ 時計を読みましょう。

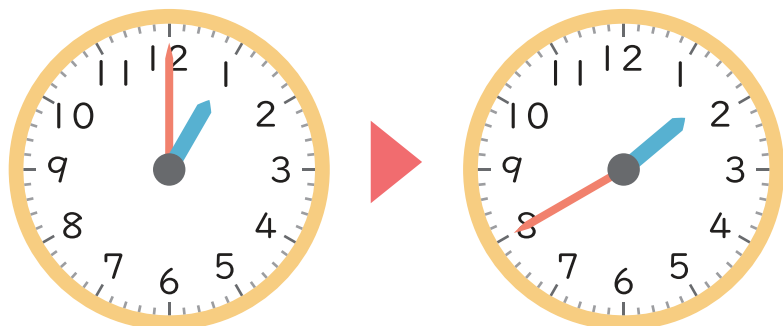
左の時^じこくから右の時^じこくまでの時間^{じかん}を答えましょう。

①



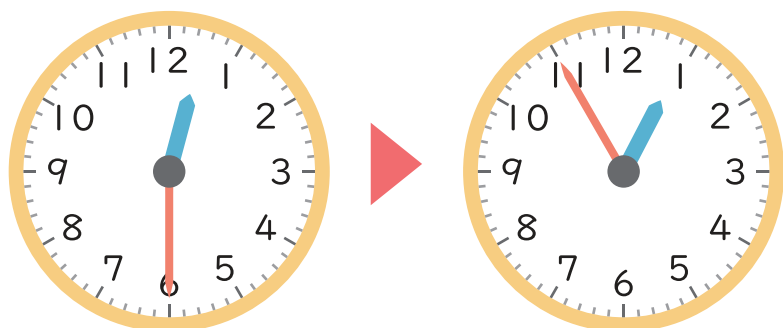
時 分 から 時 分 までの時間 分

②



時 分 から 時 分 までの時間 分

③



時 分 から 時 分 までの時間 分

3

◆時こくと時間

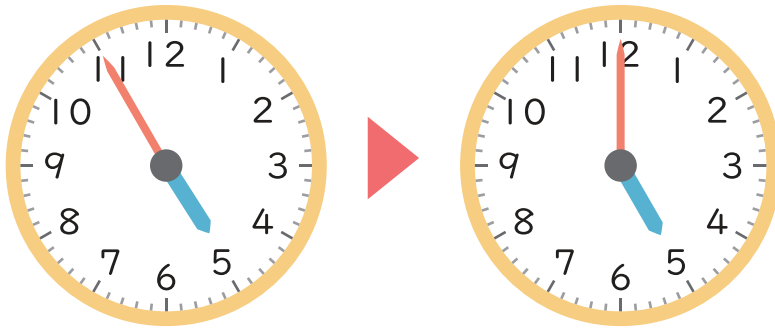
何分かな？

名前

^{とけい}時計を^よ読みましょう。

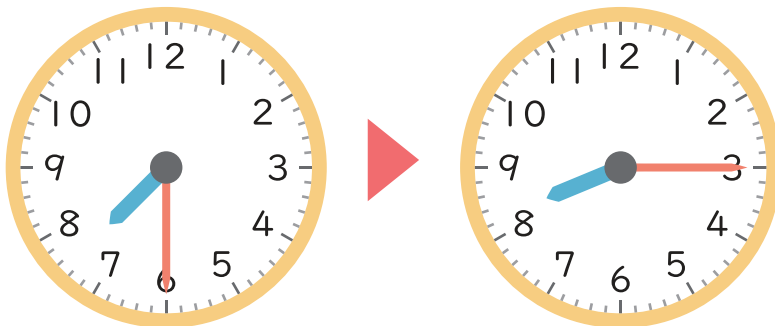
左の時^じこくから右の時^{じかん}こくまでの時間を答えましょう。

①



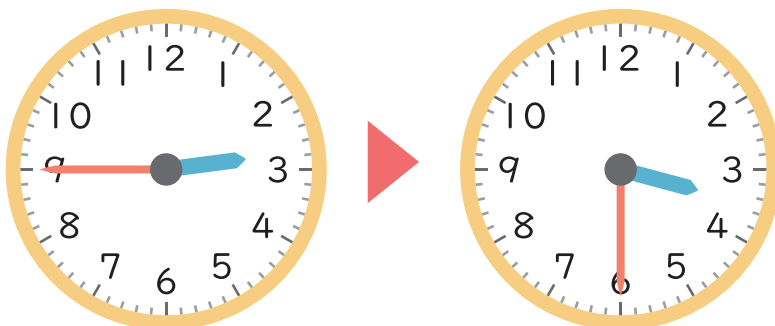
時 分 から 時 分 までの時間 分

②



時 分 から 時 分 までの時間 分

③

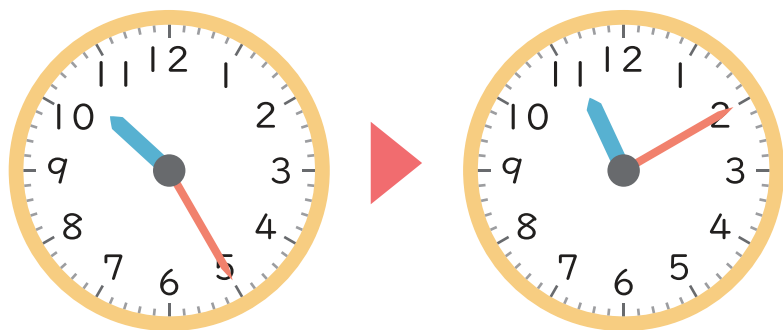


時 分 から 時 分 までの時間 分

とけいよ 時計を読みましょう。

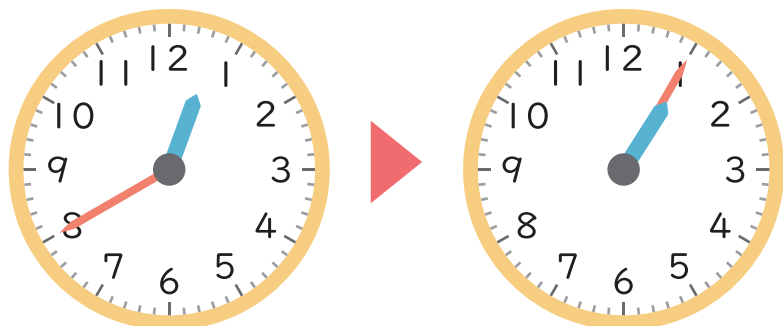
左の時^じこくから右の時^{じかん}こくまでの時間を答えましょう。

①



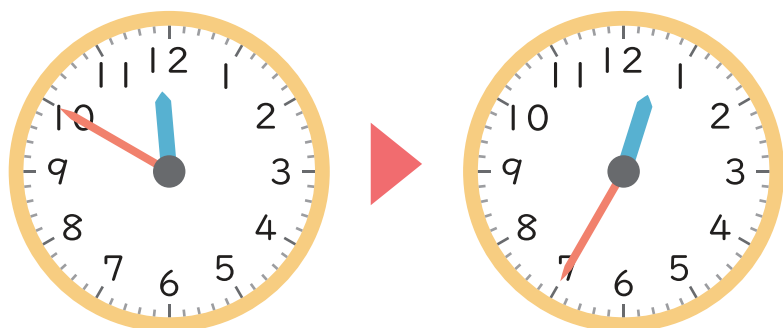
時 分 から 時 分 までの時間 分

②



時 分 から 時 分 までの時間 分

③



時 分 から 時 分 までの時間 分