


かけ算のしきをつくろう！

絵をよくみて、かけ算のしきをつくりましょう。



$$2 \times 3$$

2本のえんぴつが3はこ分

①



しき ()

②



しき ()

③



しき ()


2

かけ算のしきをつくろう!

名前

絵をよくみて、かけ算のしきをつくりましょう。

①




しき ()

②



しき ()

③



しき ()

④



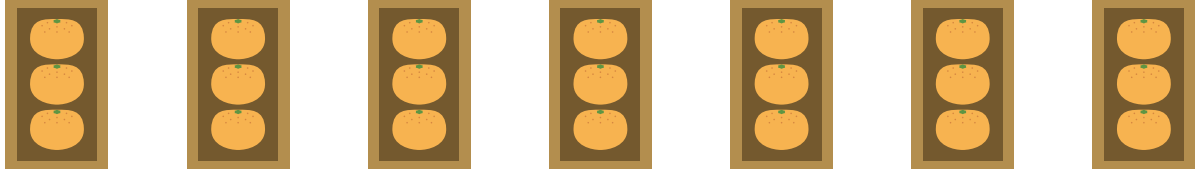
しき ()

3

かけ算のしきをつくろう！

絵をよくみて、かけ算のしきをつくりましょう。

①



しき ()

②




しき ()

③



しき ()

④



しき ()