

かけ算のしきをつくろう！

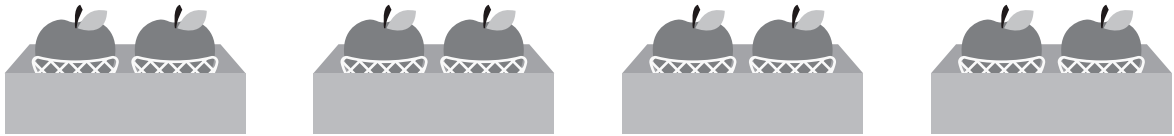
絵をよくみて、かけ算のしきをつくりましょう。



$$2 \times 3$$

2本のえんぴつが3はこ分


①



2このりんごが4はこ分だから ...

しき (2×4)

②



7本の花が5たば分だから ...

しき (7×5)

③



1Lの水が7本分だから ...

しき (1×7)


2

かけ算のしきをつくろう！

名前

絵をよくみて、かけ算のしきをつくりましょう。

①



6 このたこやきが3 さら分だから ...
しき

$$6 \times 3$$

②



3 まいのおり紙が5 セット分だから ...
しき

$$3 \times 5$$

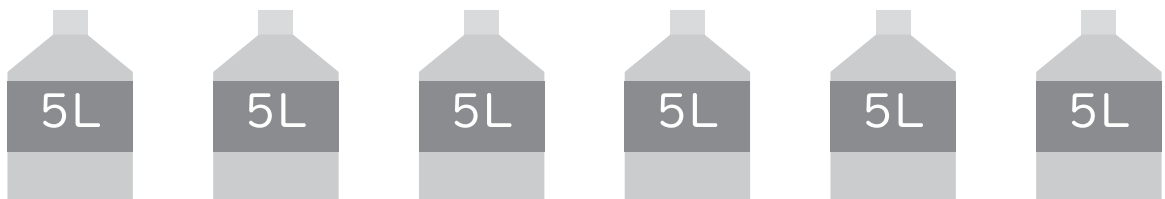
③



2cm のテープが2 本分だから ...

$$2 \times 2$$

④

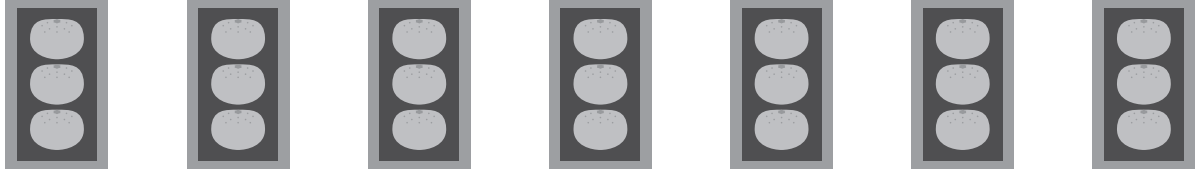


5L のお茶が6 本分だから ...

$$5 \times 6$$

絵をよくみて、かけ算のしきをつくりましょう。

①



3 このみかんが7はこ分だから ...
しき (3×7)

②



5 円玉が4まい分だから ...
しき (5×4)

③



2 人のりの車が3台分だから ...
しき (2×3)

④



4 このあめが6ふくろ分だから ...
しき (4×6)