


いくつ あるか かぞえよう。



① 10 ずつ まるで かこみましょう。

② 10 のまとまりは いくつ できましたか。

こ

③ 100 ずつ まるで かこみましょう。


④ 100 のまとまりは いくつ できましたか。

こ

⑤ ぜんぶで いくつ ありますか。

こ

いくつ あるか かぞえよう。



① 10 ずつ まで かこみましょう。

② 10 のまとまりは いくつ できましたか。

こ

③ 100 ずつ まで かこみましょう。




④ 100 のまとまりは いくつ できましたか。

こ

⑤ ぜんぶで いくつ ありますか。

こ

いくつ あるか かぞえよう。



① 10 ずつ まで かこみましょう。

② 10 のまとまりは いくつ できましたか。

こ

③ 100 ずつ まで かこみましょう。




④ 100 のまとまりは いくつ できましたか。

こ

⑤ ぜんぶで いくつ ありますか。

こ

いくつ あるか かぞえよう。



① 10 ずつ まるで かこみましょう。

② 10 のまとまりは いくつ できましたか。

こ

③ 100 ずつ まるで かこみましょう。

④ 100 のまとまりは いくつ できましたか。

こ

⑤ ぜんぶで いくつ ありますか。

こ