

2 けた - 2 けた

1 赤いおりがみが 32 まい、青いおりがみが

16 まいあります。

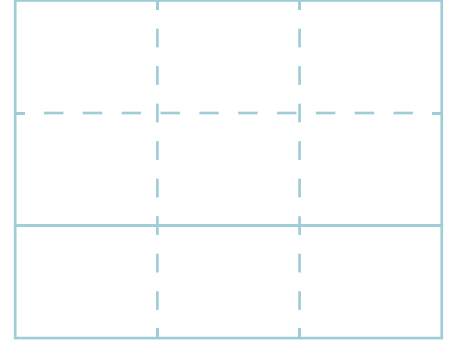
どちらが ^{なん}何まい ^{おお}多いですか。

赤いおりがみ

32

青いおりがみ

16



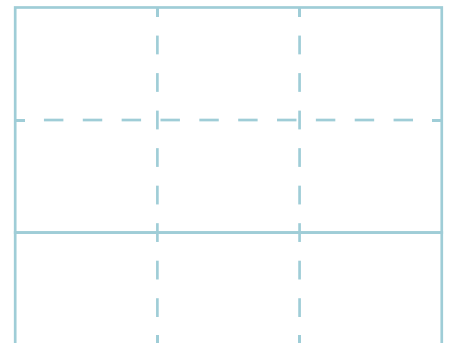

しき

こた
答え

が

まい多い。

2 チョコレートが 57 こ あります。

29 こ ^た食^たべるとのこりはなんこに
なりますか。

しき

答え

こ