

2 けた - 2 けた

1 赤いおりがみが 32 まい、青いおりがみが

16 まいあります。

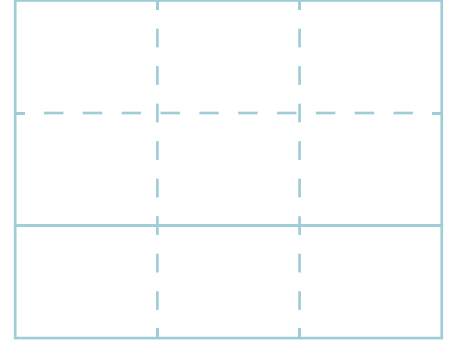
どちらが ^{なん}何まい ^{おお}多いですか。

赤いおりがみ

32

青いおりがみ

16



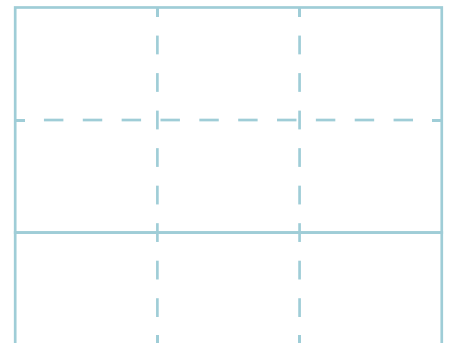

しき

こた
答え

が

まい多い。

2 チョコレートが 57 こ あります。

29 こ ^た食^たべるとのこりはなんこに
なりますか。

しき

答え

こ

2


◆文しょうもんだい

2 けた - 2 けた

名まえ

1 85 円もっておかしを^か買^いに行きます。

37 円のキャンディーを 1 つ買うと
のこりはいくらになりますか。



しき

こた
答え _____ 円

2 バスに 42 人のっています。

そのうち子どもは 28 人です。

大人は ^{なんにん}何人のっていますか。



しき

答え _____ 人

3

◆文しょうもんだい

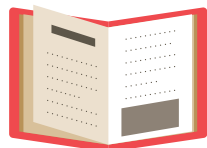
2 けた - 2 けた

名まえ

1 ぜんぶで 93 ページある本があります。

47 ページよみました。

のこりは ^{なん}何ページですか。




しき

こた
答え _____ ページ

2 シールを 70 まい もっています。

^{とも}友だちに 35 まい あげると

のこりは ^{なん}何まいになりますか。



しき

答え _____ まい



みなお
ときおわたったら見直しをしよう！

4

◆文しょうもんだい

2 けた - 2 けた

名まえ

1 93 円もって ^か 買いもの ^い に行きました。

ガムを 1 つ 買うと、おつりは 65 円
でした。ガムは いくら でしたか。



しき

こた
答え _____ 円

2 ^{こうえん} 公園で 子どもが 41 人 あそんでいます。

25 人 ^{かえ} 帰ると
^{なん} のこりは 何人 になりますか。



しき

答え _____ 人



みなお
ときおわたったら見直しをしよう!