

2 けた - 2 けた

1 赤いおりがみが 32 まい、青いおりがみが

16 まいあります。

どちらが ^{なん}何まい ^{おお}多いですか。赤いおりがみ **32**青いおりがみ **16**


	² 3	¹ 2
-	1	6
	1	6

しき $32 + 16 = 16$

こた
 答え 赤いおりがみが 16 まい多い。

2 チョコレートが 57 こ あります。

29 こ ^た食^たべるとのこりはなんこに
 なりますか。



	⁴ 5	¹ 7
-	2	9
	2	8

しき $58 + 29 = 28$

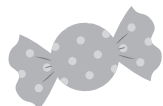
答え 28 こ

2

◆文しょうもんだい

2 けた - 2 けた

名まえ

1 85 円もっておかしを^か買^いに行きます。37 円のキャンディーを1つ買うと
のこりはいくらになりますか。


しき $85 + 37 = 48$

	⁷ 8	¹ 5
-	3	7
	4	8

こた
答え 48 円

2 バスに42人のっています。

そのうち子どもは28人です。

大人は^{なんにん}何人のっていますか。

しき $42 + 28 = 14$

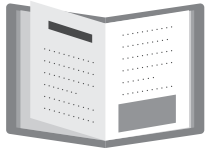
	³ 4	¹ 2
-	2	8
	1	4

答え 14 人

2 けた - 2 けた

1 ぜんぶで 93 ページある本があります。

47 ページよみました。

のこりは ^{なん}何ページですか。


	⁸ 9	¹ 3
-	4	7
	4	6

$$\text{しき} \quad 93 + 47 = 46$$

こた
答え 46 ページ

2 シールを 70 まいもっています。

^{とも}友だちに 35 まいあげると

^{なん}のこりは ^{なん}何まいになりますか。


	⁶ 7	¹ 0
-	3	5
	3	5

$$\text{しき} \quad 70 + 35 = 35$$

答え 35 まい

2けた - 2けた

1 93円もって ^か買いもの ^いに行きました。

ガムを1つ買うと、おつりは65円
でした。ガムはいくらでしたか。



しき $93 + 65 = 28$

	⁸ 9	¹ 3
-	6	5
	2	8

こた
答え 28 円

2 ^{こうえん}公園で子どもが41人あそんでいます。

25人 ^{かえ}帰ると
^{なん}のこりは何人になりますか。



しき $41 + 25 = 16$

	³ 4	¹ 1
-	2	5
	1	6

答え 16 人