


◆ぶんしょうもんだい

たすのかな ひくのかな

こたえ

- えをみて、「たしざん」か「ひきざん」のぶんしょうもんだいをつくりましょう。つくったもんだいをといてみましょう。



( れい )

あかいくるまが3だいあります。

あとからあおいくるまが2だいきました。

くるまはぜんぶでなんだいになりましたか。

しき  $3 + 2 = 5$ 

こたえ ( 5 だい )

( そのほかのれい )

・ピンクのふうせんが5こあります。

オレンジのふうせんは、ピンクのふうせんより2こ

すくないです。オレンジのふうせんはいくつありますか。

など

2


こたえ

◆ぶんしょうもんだい

たすのかな ひくのかな

なまえ

- えをみて、「たしざん」か「ひきざん」のぶんしょうもんだいを  
つくりましょう。つくったもんだいをといてみましょう。



( れい )

5にんのこどもが1つずつサッカーボールを  
もっています。ボールはあと3つのもっています。  
サッカーボールはぜんぶでいくつありますか。

しき  $5 + 3 = 8$

こたえ ( 8 こ )

( そのほかのれい )

- ・サッカーボールは8こあります。
- テニスボールは4こあります。
- どちらがどれだけおおいですか。

など

3


こたえ

◆ぶんしょうもんだい

たすのかな ひくのかな

なまえ

- えをみて、「たしざん」か「ひきざん」のぶんしょうもんだいを  
つくりましょう。つくったもんだいをといてみましょう。



( れい )

おんなのこは はなを 3 ほん もっています。

おとこのこは おんなのこより 2 ほん おおく

もっています。おとこのこは なんほん もっていますか。

しき  $3 + 2 = 5$

こたえ ( 5 ほん )

( そのほかのれい )

・とりが6わいます。

3わとんでいくと、のこりはなんわになりますか。

など