



◆ぶんしょうもんだい
たすのかな ひくのかな

なまえ

1 「4 + 7」になる もんだいは どれですか。
ずをみて かんがえて、ばんごうで こたえましょう。

① おんなのこが 4 にん います。おとこのこが 7 にん います。
どちらが なんにん おおいですか。

おんなのこ ○ ○ ○ ○
おとこのこ ● ● ● ● ● ● ●

② あかいくるまが 4 だい あります。
あとから、あおいくるまが 7 だい きました。
あわせて なんだい になりましたか。

● ● ● ● ← ○ ○ ○ ○ ○ ○ ○ ○

③ あめが 7 こ あります。
おとうとに 4 こ あげると、のこりは いくつ になりますか。

○ ○ ○ → ● ● ● ●

こたえ (②)

◆ぶんしょうもんだい

たすのかな ひくのかな


なまえ

1 「10 - 3」になる もんだいは どれですか。

ずをみて かんがえて、ばんごうで こたえましょう。

① しろいとりが 10 わと、あおいとりが 3 わいます。

あわせて なんわ いますか。



② えんぴつを 10 ぽん もっています。

いもうとは 3 ぽん もっています。

どちらが なんぽん おおく もっていますか。

じぶん




いもうと



③ 10 えんだまが 1 まいと、1 えんだまが 3 まい あります。

あわせて いくら ですか。



こたえ

②

◆ぶんしょうもんだい

たすのかな ひくのかな

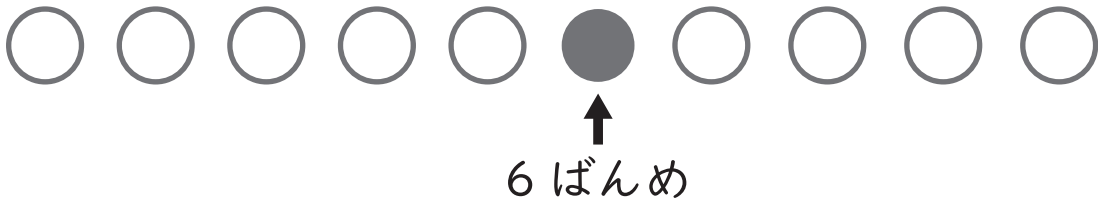
なまえ

- 1 「6 - 4」になる もんだいは どれですか。
 ずをみて かんがえて、ばんごうで こたえましょう。

- ① ほんが 6 さつ あります。
 4 さつ かうと、ぜんぶで なんさつ になりますか。



- ② れつに ならん で います。
 マメツプは まえから 6 ばんめ です。
 うしろに 4 にん ならん で います。
 みんなで なんにん いますか。



もとめるかず

- ③ いちごが 6 こ あります。
 4 こ たべると、のこりは いくつ になりますか。



こたえ (③)


◆ぶんしょうもんだい

たすのかな ひくのかな

なまえ

- 1 「 $5 + 3$ 」になる もんだいは どれですか。
ずをみて かんがえて、ばんごうで こたえましょう。

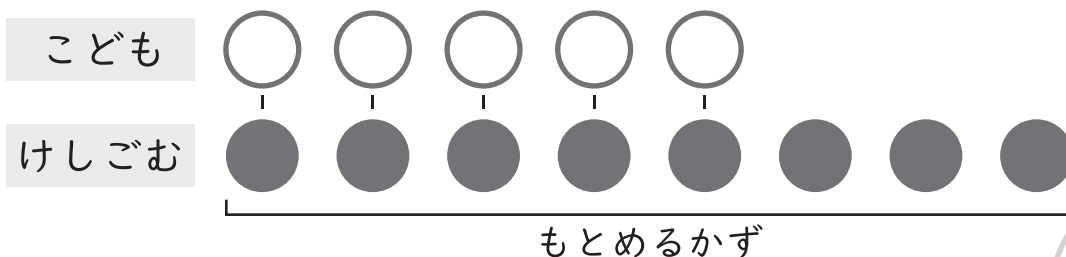
- ① うたを うたっているこが 5 にん います。
がっきを えんそうしているこが 3 にん います。
どちらが どれだけ おおいですか。



- ② ばすが 5 だい あります。
3 だい どこかへ いくと、のこりは なんだい になりますか。



- ③ 5 にんが 1 つずつ けしごむを もっています。
けしごむは あと 3 つ のこっています。
けしごむは ぜんぶで いくつ ありますか。



こたえ

③