

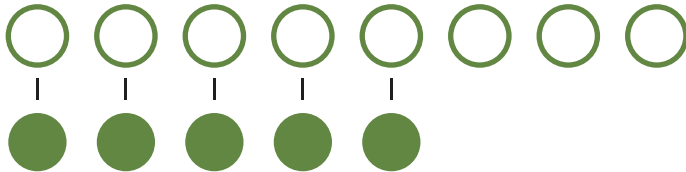
1 「 $8 + 5$ 」になる もんだいと ず は どれですか。

もんだい① おにぎりが 8 こ あります。5 こ たべました。
おにぎりは いくつ のこっていますか。

もんだい② りんごが 8 こ あります。
5 こ もらうと、あわせて いくつ になりますか。

もんだい③ いぬが 8 ひき います。ねこが 5 ひき います。
どちらが どれだけ おおいですか。

ずア



ずイ



ずウ



もんだい ()

ず ()

2

◆ぶんしょうもんだい

たすのかな ひくのかな

なまえ

1 「7 - 2」になる もんだいと ずはどれですか。

もんだい① ほんが7さつと、じてんが2さつあります。
ちがいはなんさつですか。

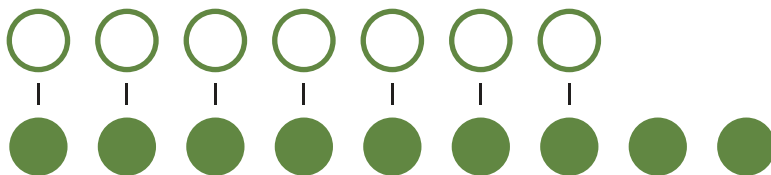
もんだい② くるまが7だいあります。
あとから2だいきました。
くるまはあわせてなんだいありますか。

もんだい③ 7にんが1つずつあめをもっています。
あめはあと2このこっています。
あめはぜんぶでいくつありますか。

ずア



ずイ



ずウ



もんだい () ず ()

1 「 $3 + 8$ 」になる もんだいと ずは どれですか。

もんだい① ばすに 8 にん のっています。

3 にん おりると、のこりは なんにん になりますか。

もんだい② トマトが 8 こ あります。

たまねぎは トマトより 3 こ すくないです。

たまねぎは いくつ ありますか。

もんだい③ れつに ならんでいます。

まえから 3 ばんめ ならんでいます。

うしろに 8 にん います。

ぜんぶで なんにん ならんでいますか。

ずア



ずイ



ずウ



もんだい () ず ()


1 「10 - 4」になる もんだいと ずは どれですか。

もんだい① 10 にんが 1 つずつ おにぎりを もっています。
おにぎりは 4 こ のこっています。
おにぎりは ぜんぶで いくつ ありますか。

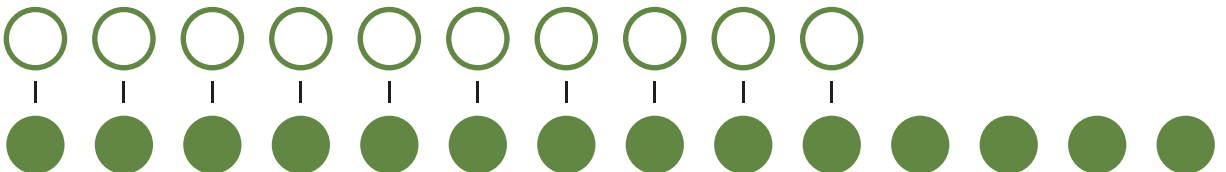
もんだい② いちごが 10 こ あります。ももは いちごより 4 こ
おおいです。いちごは いくつ ありますか。

もんだい③ マメツプは チョコを 10 こ かいました。
おとうとは マメツプより 4 こ すくないです。
おとうとは チョコを いくつ もっていますか。

ずア



ずイ



もんだい () ず ()