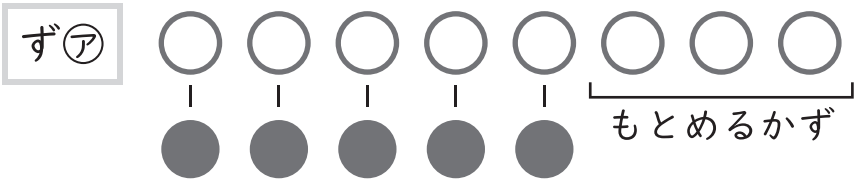


1 「8 + 5」になる もんだいと ず は どれですか。

もんだい① おにぎりが 8 こ あります。5 こ たべました。
ず① おにぎりは いくつ のこっていますか。

もんだい② りんごが 8 こ あります。
5 こ もらうと、あわせて いくつ になりますか。

もんだい③ いぬが 8 ひき います。ねこが 5 ひき います。
ず② どちらが どれだけ おおいですか。



もんだい (②)
ず (②)

◆ぶんしょうもんだい

たすのかな ひくのかな

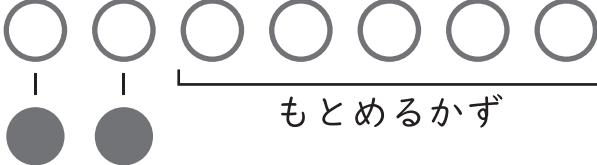
なまえ

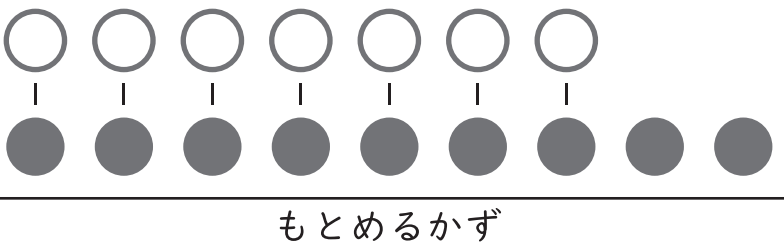
1 「7 - 2」になる もんだいと ずはどれですか。

もんだい① ほんが7さつと、じてんが2さつあります。
ちがいはなんさつですか。

もんだい② くるまが7だいあります。
ず㊦ あとから2だいきました。
くるまはあわせてなんだいありますか。

もんだい③ 7にんが1つずつあめをもっています。
ず㊩ あめはあと2このこっています。
あめはぜんぶでいくつありますか。

ず㊦ 

ず㊩ 

ず㊦ 

もんだい (①) ず (㊦)

◆ぶんしょうもんだい

たすのかな ひくのかな

なまえ

1 「3 + 8」になる もんだいと ずは どれですか。

もんだい① ばすに 8 にん のっています。

ず㊦ 3 にん おりると、のこりは なんにん になりますか。

もんだい② トマトが 8 こ あります。

ず㊡ たまねぎは トマトより 3 こ すくないです。
たまねぎは いくつ ありますか。

もんだい③ れつに ならんでいます。

まえから 3 ばんめ ならんでいます。

うしろに 8 にん います。

ぜんぶで なんにん ならんでいますか。

ず㊡



もとめるかず

ず㊥



ず㊦



もんだい

③

ず

①

◆ぶんしょうもんだい

たすのかな ひくのかな

なまえ

1 「10 - 4」になる もんだいと ずは どれですか。

もんだい① 10 にんが 1 つずつ おにぎりを もっています。

ず① おにぎりは 4 こ のこっています。

おにぎりは ぜんぶで いくつ ありますか。

もんだい② いちごが 10 こ あります。ももは いちごより 4 こ

ず① おおいです。いちごは いくつ ありますか。

もんだい③ マメツプは チョコを 10 こ かいました。

おとうとは マメツプより 4 こ すくないです。

おとうとは チョコを いくつ もっていますか。

ず②



ず①



もとめるかず

もんだい (③) ず (ア)