


◆けいさん：20より大きいかず

おお
大きいかずを かぞえよう クッキーは なんまい あるかな。

① クッキーを 10まいずつ せんで かこみましょう。

② 10のまとまりは いくつ できましたか。

つ

③ ばらは いくつ ですか。

つ

④ クッキーは ぜんぶで なんまい ありますか。

まい


2

◆けいさん：20より大きいかず

おお
大きいかずをかぞえよう

なまえ

あめは いくつ あるかな。



① あめを 10こずつ せんで かこみましょう。

② 10のまとまりは いくつ できましたか？

つ


③ ばらは いくつ ですか。

つ

④ あめは ぜんぶで いくつ ありますか。

こ

りんごはぜんぶでいくつかな。



① りんごを10こずつせんでかこみましょう。

② 10のまとまりはいくつできましたか？

 つ

③ ばらはいくつですか。

 つ

④ りんごはぜんぶでなんこありますか。

 こ