



こたえ

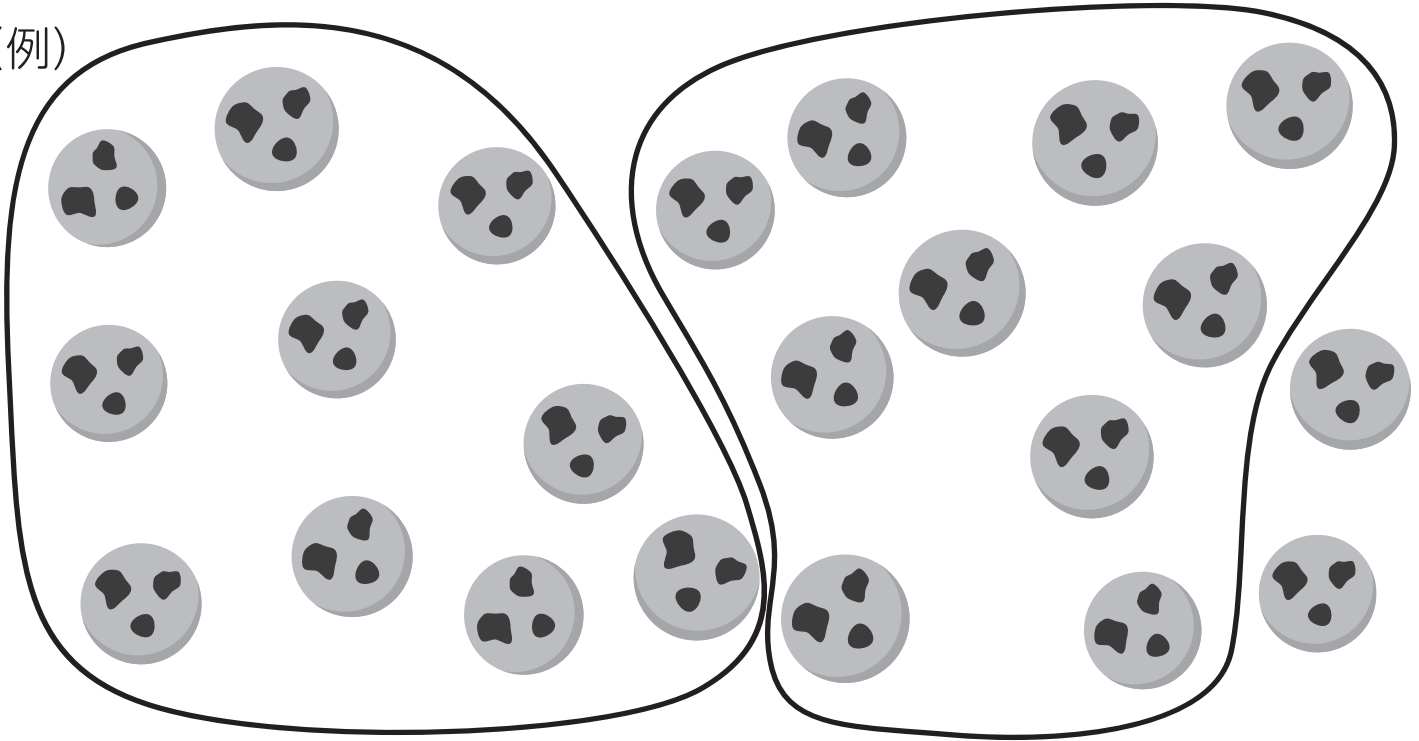
◆けいさん：20より大きいかず

大きいかずを かぞえよう

なまえ

クッキーは なんまい あるかな。

(例)



1 クッキーを 10 まいずつ せんで かこみましょう。

2 10 のまともりは いくつ できましたか。

2 っ

3 ばらは いくつ ですか。

2 っ

4 クッキーは ぜんぶで なんまい ありますか。

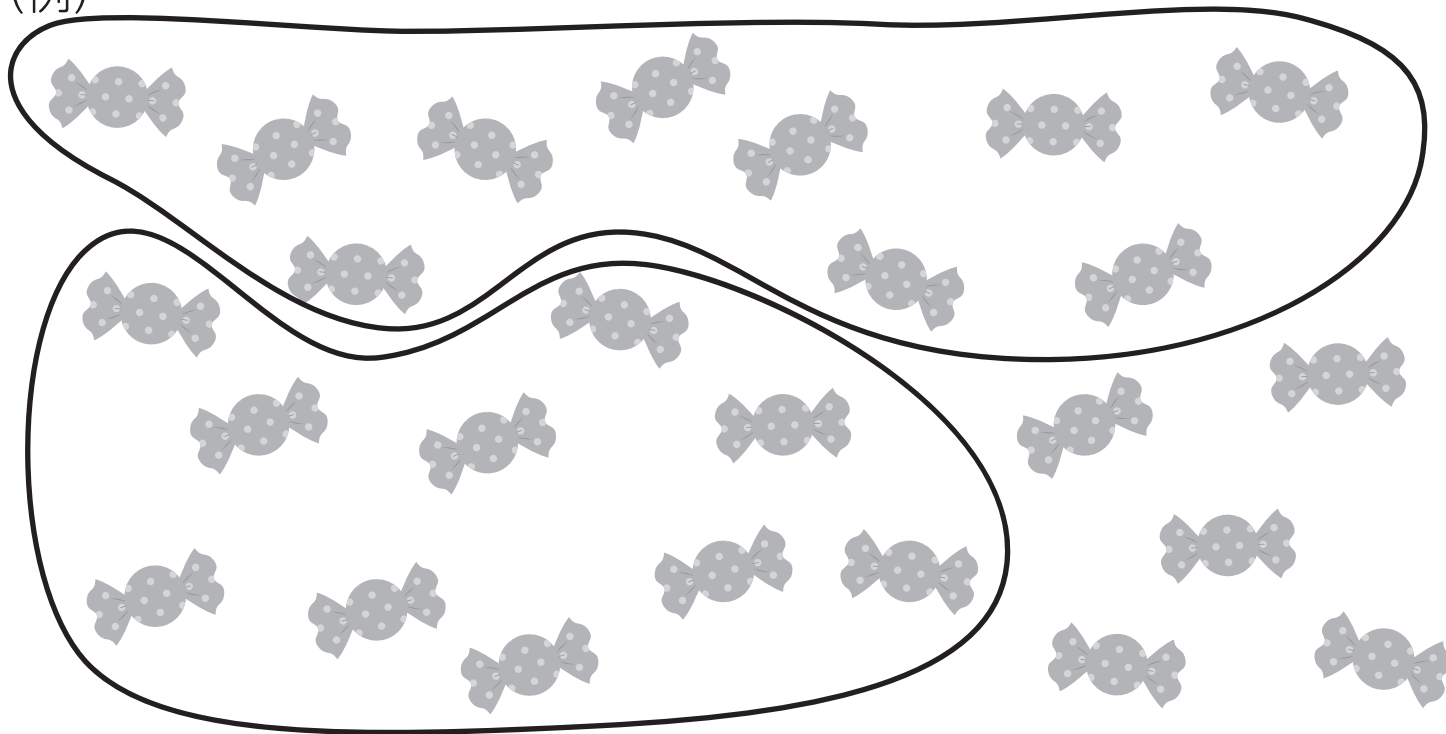
20 と 2 で ...

22 まい

◆けいさん：20 より大きいかず

大きいかずを かぞえよう

あめはいくつあるかな。
(例)



① あめを 10 こずつせんでかこみましょう。

② 10 のまとまりはいくつできましたか？

2

っ

③ ばらはいくつですか。

5

っ

④ あめはぜんぶでいくつありますか。

20 と 5 で ...

25

こ

3


こたえ

◆けいさん：20より大きいかず

大きいかずを かぞえよう

なまえ

□ りんごは ぜんぶでいくつかな。
(例)



1 りんごを 10 こずつ せんで かこみましょう。

2 10 のまとまりは いくつ できましたか？

3 つ

3 ばらは いくつ ですか。

2 つ

4 りんごは ぜんぶで なんこ ありますか。

30 と 2 で...

32 こ