



3

◆ぶんしょうもんだい

ひきざん

こたえ


- 1 ネコさんはイチゴを8つもっています。
 イヌさんは4つもっています。
 どちらがいくつおいしいですか。



しき $8 - 4 = 4$

こたえ ネコさん が 4 つおいしい。

- 2 あかいはなが5ほん、あおいはなが2ほんあります。
 どちらがなんほんおいしいですか。



しき $5 - 2 = 3$

こたえ あかいはな が 3 ほんおいしい。