

1


◆ぶんしょうもんだい

ひきざん

1 クマさんは リンゴを 7 こもっています。

そのうち 3 こをたべました。

リンゴは なんこ のこっていますか。



しき

こたえ _____ こ

2 リスさんはクリを 8 こもっています。

6 こたべると、のこりは なんこ になりますか。



しき

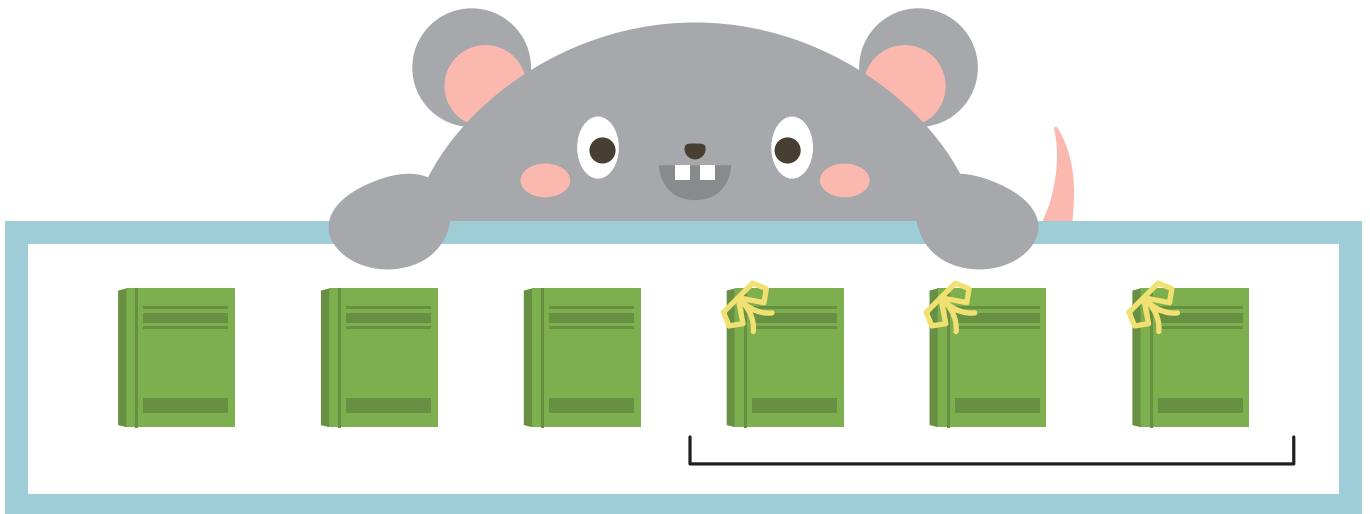
こたえ _____ こ

2

◆ぶんしょうもんだい

ひきざん

- 1 ネズミさんはほんを6さつもっています。
3さつともだちにあげました。
ほんはなんさつのこっていますか。



しき

こたえ さつ

- 2 ウサギさんはにんじんを5ほんもっています。
そのうち4ほんをたべました。
のこりはなんほんになりますか。



しき



こたえ ほん

3

◆ぶんしょうもんだい

ひきざん


- 1 ネコさんはイチゴを8つもっています。
 イヌさんは4つもっています。
 どちらがいくつおいしいですか。



しき

こたえ _____ が _____ つおいしい。

- 2 あかいはなが5ほん、あおいはなが2ほんあります。
 どちらがなんほんおいしいですか。



しき



こたえ _____ が _____ ほんおいしい。

4

◆ぶんしょうもんだい

ひきざん

- 1 クマさんは キャンディーを 5 こもっています。
 マメツプは 9 こもっています。
 どちらが どれだけ おおいですか。



しき

こたえ _____ が _____ こおい。

- 2 きいろいほんを 7 さつもっています。
 あかいほんを 2 さつもっています。
 どちらが なんさつ おおいですか。



しき

こたえ _____ が _____ さつおい。

5


◆ぶんしょうもんだい

ひきざん

1 マメツプは みかんを 9 こ もっています。

そのうち 6 こ たべました。

みかんは なんこ のこっていますか。




しき

こたえ _____ こ

2 あおい とりが 6 わ います。

みどりいろの とりが 4 わ います。

どちらが なんわ おおいですか。



しき

こたえ _____ が _____ わおおい。