

1

◆ぶんしょうもんだい


## ひきざん

こたえ

1 クマさんはリンゴを7こもっています。

そのうち3こをたべました。

リンゴはなんこのこっていますか。



しき  $7 - 3 = 4$

こたえ 4 こ

2 リスさんはクリを8こもっています。

6こたべると、のこりはなんこになりますか。



しき  $8 - 6 = 2$

こたえ 2 こ

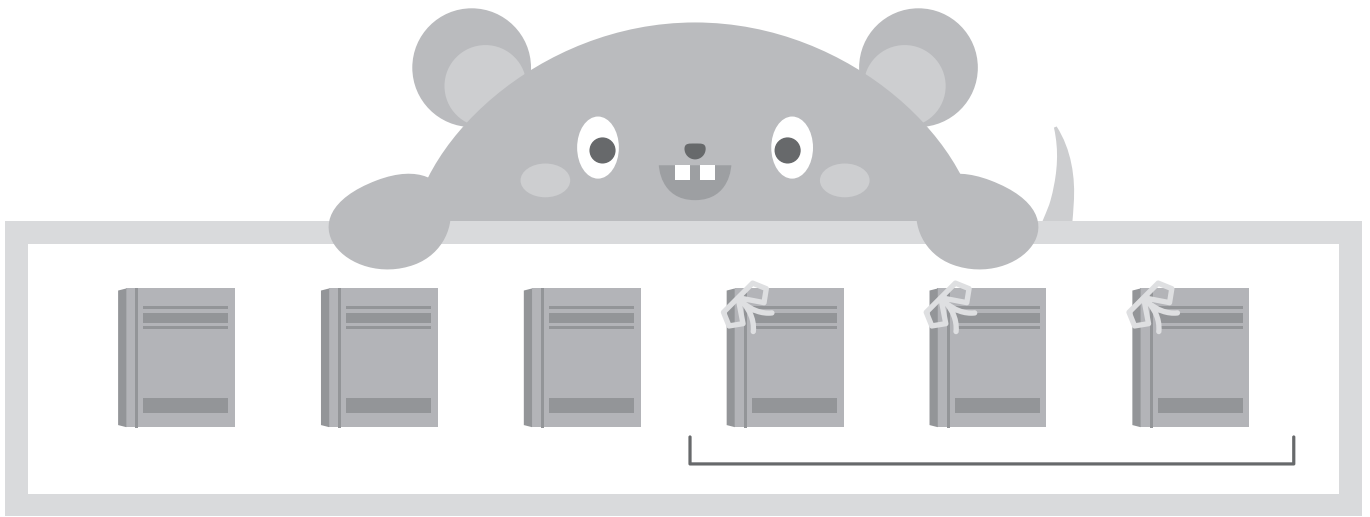
## 2

◆ぶんしょうもんだい

## ひきざん

こたえ

- 1 ネズミさんはほんを6さつもっています。  
3さつともだちにあげました。  
ほんはなんさつのこっていますか。



しき  $6 - 3 = 3$

こたえ 3 さつ

- 2 ウサギさんはにんじんを5ほんもっています。  
そのうち4ほんをたべました。  
のこりはなんほんになりますか。



しき  $5 - 4 = 1$

こたえ 1 ほん



## 3

◆ぶんしょうもんだい

## ひきざん

こたえ


- 1 ネコさんはイチゴを8つもっています。  
イヌさんは4つもっています。  
どちらがいくつおいしいですか。



しき  $8 - 4 = 4$

こたえ ネコさん が 4 つおいしい。

- 2 あかいはなが5ほん、あおいはなが2ほんあります。  
どちらがなんほんおいしいですか。



しき  $5 - 2 = 3$

こたえ あかいはな が 3 ほんおいしい。



4

◆ぶんしょうもんだい

## ひきざん

こたえ

- 1 クマさんは キャンディーを 5 こもっています。  
 マメツプは 9 こもっています。  
 どちらが どれだけ おおいですか。



しき  $9 - 5 = 4$

こたえ マメツプ が 4 こおい。

- 2 きいろいほんを 7 さつもっています。  
 あかいほんを 2 さつもっています。  
 どちらが なんさつ おおいですか。



しき  $7 - 2 = 5$

こたえ きいろいほん が 5 さつおい。

5

◆ぶんしょうもんだい


## ひきざん

こたえ

1 マメツプは みかんを 9 こ もっています。

そのうち 6 こ たべました。

みかんは なんこ のこっていますか。




しき  $9 - 6 = 3$

こたえ 3 こ

2 あおいとりが 6 わいます。

みどりいろの とりが 4 わいます。

どちらが なんわ おおいですか。



しき  $6 - 4 = 2$

こたえ あおいとり が 2 わおい。