

3




◆文章問題

# わり算

使用カード

・リンゴカード 16 枚

1 カードを使って、問題に答えましょう。



① リンゴが 8 こあります。

4 人に同じ数ずつ分けると 1 人分は何こになりますか。

こたえ \_\_\_\_\_ こ

② リンゴが 16 こあります。

4 人に同じ数ずつ分けると 1 人分は何こになりますか。

こたえ \_\_\_\_\_ こ