



5

◆ぶんしょうもんだい

## たしざん

こたえ



- 1 ネコさんは あおい はなを 4 ほん もっています。  
 イヌさんは あおい はなを 3 ほん もっています。  
 あおい はなは ぜんぶで なんほん ありますか。



$$\text{しき } 4 + 3 = 7$$

 こたえ 7 ほん

- 2 ネコが 4 ひき います。あとから 6 ひき きました。  
 ぜんぶで なんひきの ねこが いますか。



$$\text{しき } 4 + 6 = 10$$

 こたえ 10 ひき