


たしざん

1 クマさんは ノートを 4 さつ もっています。



① さらに 2 さつ かうと、あわせて なんさつ になりますか。

しき

こたえ _____ さつ



2 あかい とりが 3 わ います。

そこにあおい とりが 4 わ きました。

ぜんぶで なんわ になりましたか。



しき


こたえ _____ わ

2

◆ぶんしょうもんだい

たしざん

1 ネズミさんは チーズを 2 こ もっています。



① 2 こもらうと、あわせて なんこ になりますか。

しき

こたえ _____ こ



2 あかい キャンディーが 2 つ あります。

あおい キャンディーが 3 つ あります。

キャンディーは あわせて いくつ ありますか。



しき


こたえ _____ つ

3

◆ぶんしょうもんだい

たしざん

1 ネコさんは リンゴを 3つ もっています。



① 4つもらうと、あわせていくつになりますか。

しき

こたえ _____ つ



② さらに2つもらいました。ぜんぶでいくつありますか。

しき

こたえ _____ つ





4

◆ぶんしょうもんだい

たしざん


1 イヌさんは あめを 5 つもっています。



① 1 つもらうと、あわせていくつになりますか。

しき

こたえ _____ つ



② さらに 2 つもらいました。ぜんぶでいくつになりますか。

しき

こたえ _____ つ





5

◆ぶんしょうもんだい

たしざん



- 1 ネコさんは あおい はなを 4 ほん もっています。
 イヌさんは あおい はなを 3 ほん もっています。
 あおい はなは ぜんぶで なんほん ありますか。



しき

こたえ _____ ほん

- 2 ネコが 4 ひき います。あとから 6 ひき きました。
 ぜんぶで なんひきの ねこが いますか。



しき

こたえ _____ ひき