


1

◆ぶんしょうもんだい

## たしざん

こたえ

1 クマさんは ノートを 4 さつ もっています。



① さらに 2 さつ かうと、あわせて なんさつ になりますか。

しき  $4 + 2 = 6$

こたえ 6 さつ

2 あかい とりが 3 わ います。

そこにあおい とりが 4 わ きました。

ぜんぶで なんわ になりましたか。



しき  $3 + 4 = 7$

こたえ 7 わ


2

◆ぶんしょうもんだい

# たしざん

こたえ

1 ネズミさんは チーズを 2 こ もっています。



① 2 こもらうと、あわせて なんこ になりますか。

しき  $2 + 2 = 4$

こたえ 4 こ



2 あかい キャンディーが 2 つ あります。

あおい キャンディーが 3 つ あります。

キャンディーは あわせて いくつ ありますか。



しき  $2 + 3 = 5$

こたえ 5 つ


3

◆ぶんしょうもんだい

# たしざん

こたえ

1 ネコさんは リンゴを 3つ もっています。



① 4つもらうと、あわせていくつになりますか。

しき  $3 + 4 = 7$

こたえ 7 っ



② さらに2つもらいました。ぜんぶでいくつありますか。

しき  $7 + 2 = 9$

こたえ 9 っ



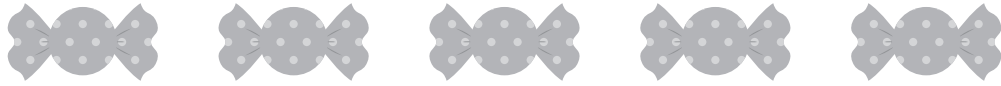
4

◆ぶんしょうもんだい

## たしざん

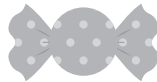
こたえ

1 イヌさんは あめを 5 つもっています。



① 1 つもらうと、あわせていくつになりますか。

しき  $5 + 1 = 6$

こたえ 6 つ

② さらに 2 つもらいました。ぜんぶでいくつになりますか。

しき  $6 + 2 = 8$

こたえ 8 つ



5

◆ぶんしょうもんだい

## たしざん

こたえ



- 1 ネコさんは あおい はなを 4 ほん もっています。  
 イヌさんは あおい はなを 3 ほん もっています。  
 あおい はなは ぜんぶで なんほん ありますか。



$$\text{しき } 4 + 3 = 7$$

 こたえ 7 ほん

- 2 ネコが 4 ひき います。あとから 6 ひき きました。  
 ぜんぶで なんひきの ねこが いますか。



$$\text{しき } 4 + 6 = 10$$

 こたえ 10 ひき