

1


◆さんすうぬりえ


## ひきざん

けいさんをして、こたえにあったいろをぬりましょう。

1 = 

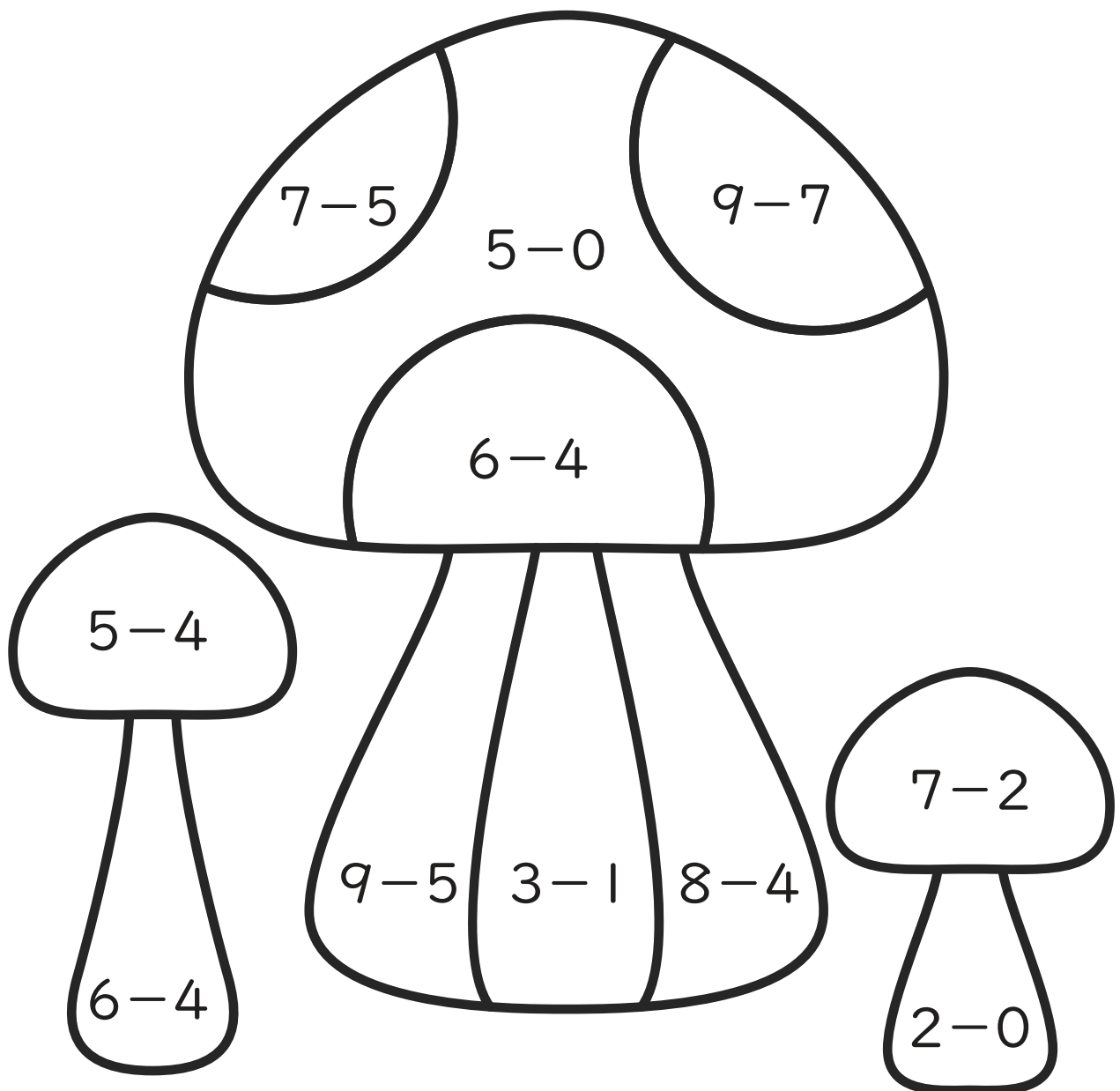
2 = 

3 = 

4 = 

5 = 

じゆうにいろをきめましょう。




# 2


◆さんすうぬりえ

## ひきざん


けいさんをして、こたえにあったいろをぬりましょう。

$6 =$  

$7 =$  

$8 =$  

$9 =$  

$10 =$  

じゆうにいろをきめましょう。

