




◆これいくつ？

かたち 1

まる、しかく、さんかく、ほしは それぞれいくつかな？
かずを かぞえて したの に すうじを かきましょう。



	<input type="text"/>
---	----------------------

	<input type="text"/>
---	----------------------




	<input type="text"/>
---	----------------------

	<input type="text"/>
---	----------------------

◆これいくつ？

かたち 2

まる、しかく、さんかく、ほしは それぞれいくつかな？
かずを かぞえてしたの に すうじを かきましょう。



	<input type="text"/>
---	----------------------

	<input type="text"/>
---	----------------------

	<input type="text"/>
---	----------------------

	<input type="text"/>
---	----------------------

◆これいくつ？

かたち 3

まる、しかく、さんかく、ほしは それぞれいくつかな？
かずをかぞえてしたの に すうじをかきましょう。



	<input type="text"/>
---	----------------------

	<input type="text"/>
---	----------------------


	<input type="text"/>
---	----------------------

	<input type="text"/>
---	----------------------

◆これいくつ？

かたち 4

まる、しかく、さんかく、ほしは それぞれいくつかな？
かずを かぞえてしたの に すうじを かきましょう。



	<input type="text"/>
---	----------------------

	<input type="text"/>
---	----------------------


	<input type="text"/>
---	----------------------

	<input type="text"/>
---	----------------------

◆これいくつ？

かたち 5

まる、しかく、さんかく、ほしは それぞれいくつかな？
かずを かぞえて したの に すうじを かきましょう。



	<input type="text"/>
---	----------------------

	<input type="text"/>
---	----------------------

	<input type="text"/>
---	----------------------

	<input type="text"/>
---	----------------------