

# 1

◆分数・1より小さい数

## 分数の大きさ

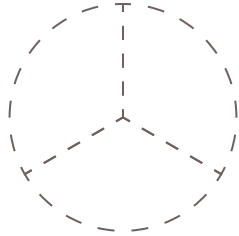
ひづけ  
日付

月 日 ( )

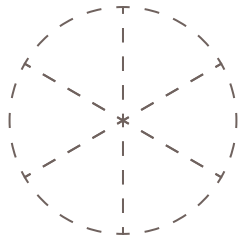
なまえ  
名前

□ 図に色をぬって、分数の大きさを表しましょう。

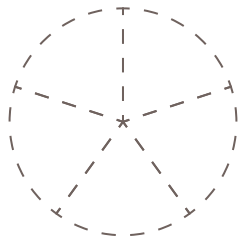
(1)  $\frac{2}{3}$



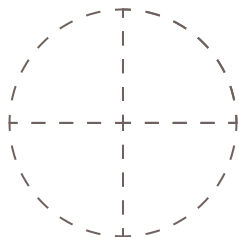
(2)  $\frac{4}{6}$



(3)  $\frac{3}{5}$



(4)  $\frac{3}{4}$



(5)  $\frac{5}{7}$

