

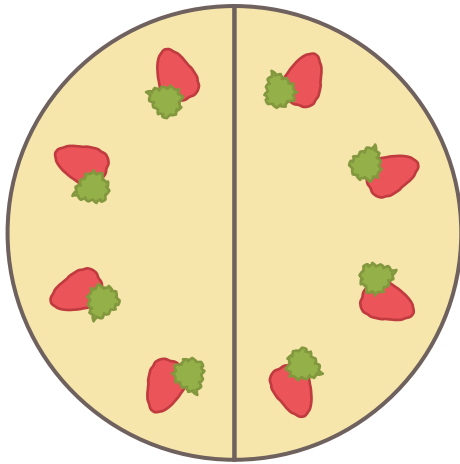
1

◆分数

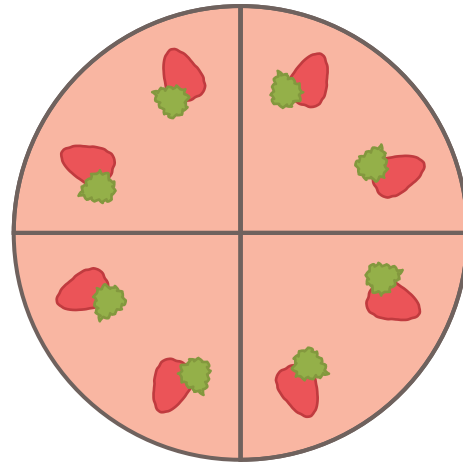
2等分と4等分

日付

月 日



2等分



4等分

1 大きい方に丸をつけましょう。

(1) $\frac{1}{2}$ と $\frac{1}{4}$

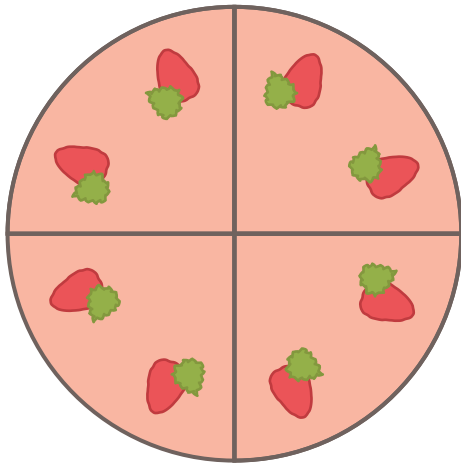
(2) $\frac{1}{2}$ と $\frac{3}{4}$

(3) $\frac{1}{4}$ と $\frac{2}{4}$

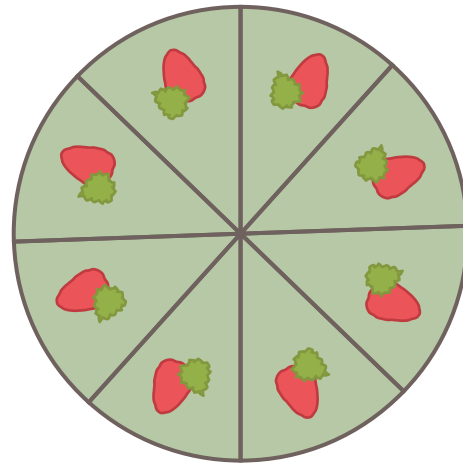
2 左の分数と同じ大きさの方に丸をつけましょう。

(1) $\frac{1}{2}$ $\frac{1}{4}$ と $\frac{2}{4}$

(2) $\frac{2}{2}$ 1 と $\frac{3}{4}$



4等分



8等分

1 大きい方に丸をつけましょう。

(1) $\frac{1}{4}$ と $\frac{1}{8}$

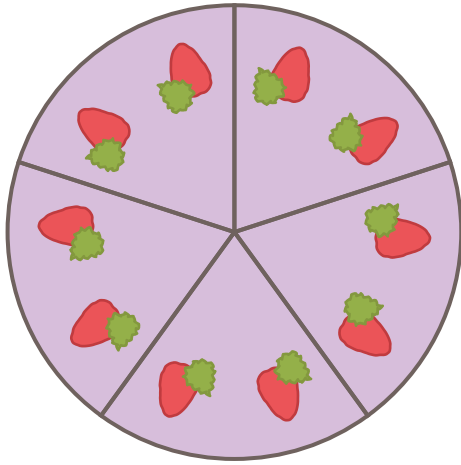
(2) $\frac{1}{8}$ と $\frac{3}{8}$

(3) $\frac{3}{4}$ と $\frac{7}{8}$

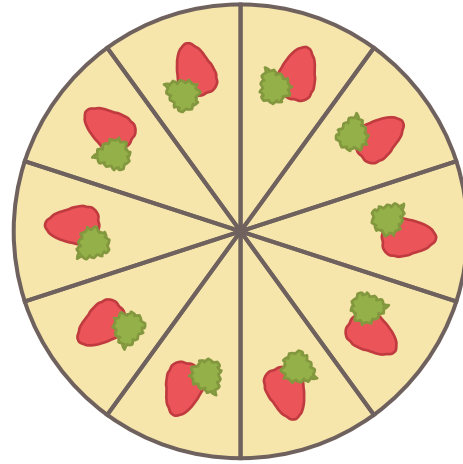
2 左の分数と同じ大きさの方に丸をつけましょう。

(1) $\frac{3}{4}$ $\frac{6}{8}$ と 1

(2) $\frac{2}{8}$ $\frac{1}{4}$ と $\frac{5}{8}$



5等分



10等分

1 大きい方に丸をつけましょう。

(1) $\frac{1}{5}$ と $\frac{4}{5}$

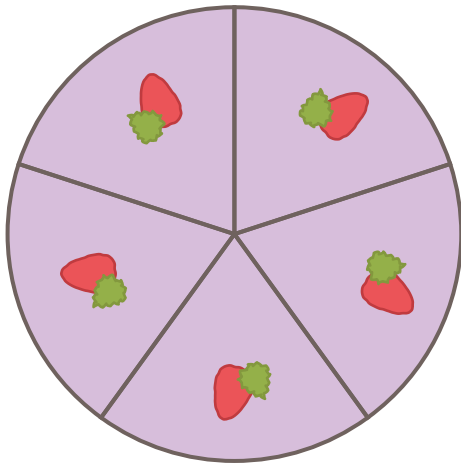
(2) $\frac{3}{5}$ と $\frac{3}{10}$

(3) $\frac{9}{10}$ と 1

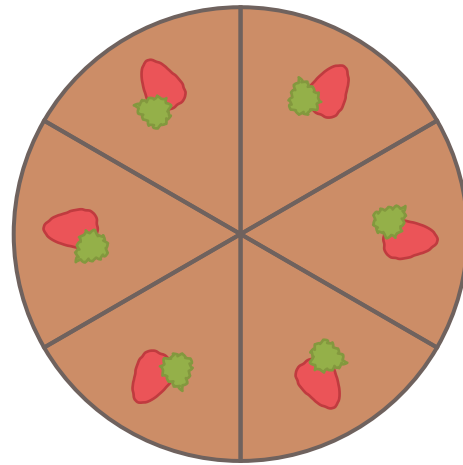
2 左の分数と同じ大きさの方に丸をつけましょう。

(1) $\frac{4}{5}$ $\frac{5}{10}$ と $\frac{8}{10}$

(2) $\frac{4}{10}$ $\frac{3}{10}$ と $\frac{2}{5}$



5等分



6等分

1 大きい方に丸をつけましょう。

(1) $\frac{2}{5}$ と $\frac{2}{6}$

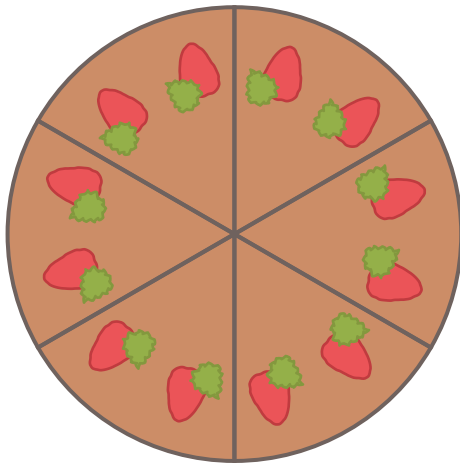
(2) $\frac{1}{5}$ と $\frac{3}{6}$

(3) $\frac{3}{6}$ と $\frac{5}{6}$

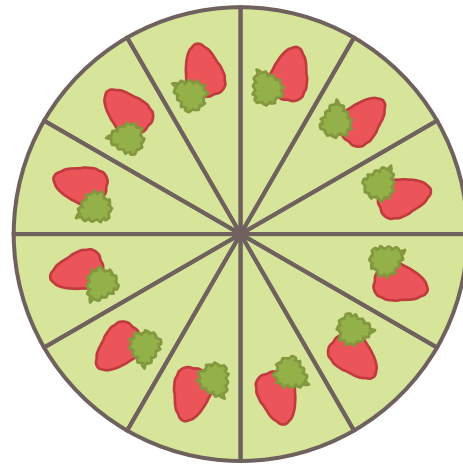
2 大きい順にならべましょう。

(1) $\frac{2}{5}$, $\frac{5}{6}$, $\frac{3}{6}$, $\frac{3}{5}$

(, , ,)



6等分



12等分

1 大きい方に丸をつけましょう。

(1) $\frac{1}{12}$ と $\frac{2}{12}$

(2) $\frac{5}{6}$ と $\frac{5}{12}$

(3) $\frac{9}{12}$ と $\frac{4}{6}$

2 左の分数と同じ大きさの方に丸をつけましょう。

(1) $\frac{2}{6}$ $\frac{4}{12}$ と $\frac{2}{12}$

(2) $\frac{10}{12}$ $\frac{5}{6}$ と $\frac{3}{6}$